

име и презиме _____

датум _____

**Физичко-географски карактеристики на Земјата
(форма на Земјата, сфери, континенти, океани)**

Заокружи го точниот одговор!

1. Првиот морепловец кој докажал дека Земјата има неправилна топчеста форма е:

- а) Васко Де гама б) Фернандо Магелан в) Кристофер Колумбо

1

2. Воздушна обвика околу земјата е:

- а) атмосфера б) биосфера в) хидросфера

1

3. Местото од каде што избива вода од земјата и истекува на површината е:

- а) река б) поток в) извор

1

4. Најголем континент е:

- а) Европа б) Азија в) Австралија

1

Дополни за да биде точно!


5. Првиот човек кој ја видел топчестата форма на Земјата од поголема височина е:

2

**6. Хидросфера е _____ и ги
опфаќа сите води: _____.**

5

7. На сликата во празните полиња напиши ги Земјините обвивки (сфери):



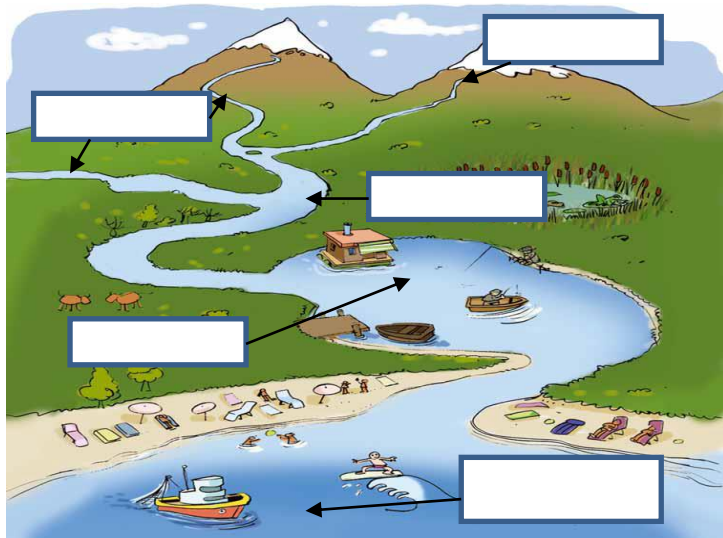
4

8. Езеро е _____

3

9. Во празните полиња на сликата запиши ги соодветно поимите (река, извор, поток, езеро)

4



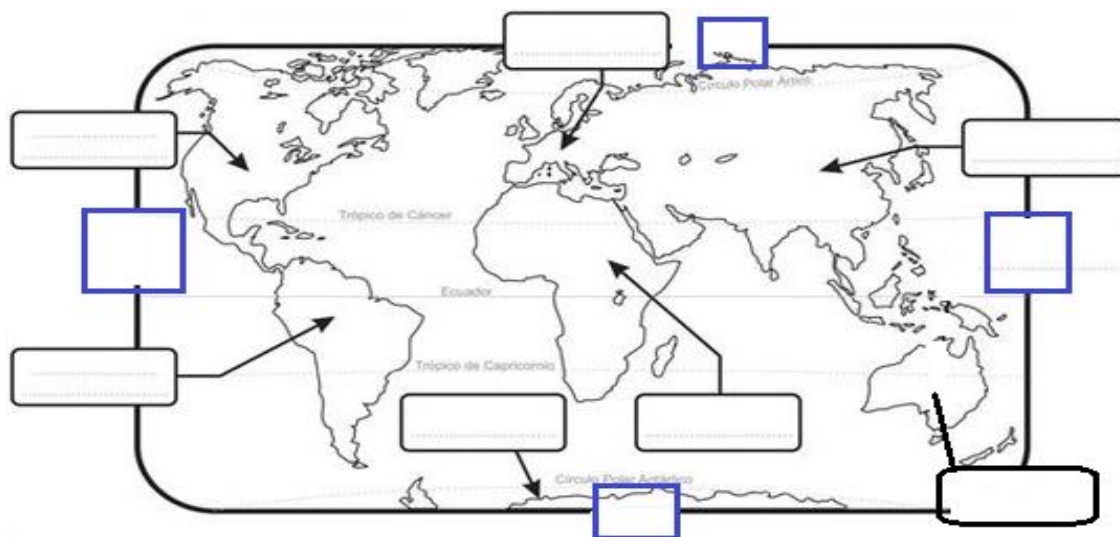
7. На планетата Земја има _____ океани, а тоа се: _____, _____, _____ и _____.

5

8. За да се ориентираме во просторот треба да ги знаеме _____, а направа која ја користиме за ориентација е _____.

2

9. На немата карта, во правоаголниците запиши ги називите на континетите и во квадратчињата запиши ги главните страни на светот.



11

Одговори целосно!

10. Како ја замислувале луѓето Земјата во минатото?

6

11. Што ја сочинува биосферата?

6

12. Кои природни појави се дел од атмосферата?

6






13. Што е географска карта?

4

14. На кој континент се наоѓа нашата држава?

4

ИНДИКАТОРИ	Да	Делумно	Не
Наведува што мислеле луѓето за Земјата во минатото и ја опишува нејзината форма			
Ги именува земјините обвивки /сфери и ги објаснува нивните карактеристики			
Ги поврзува природните појави со Земјините обвивки			
Ги наведува и покажува разместеноста на континентите, океаните и страните на светот на географска карта			

Бодови	0-12	13 - 26	27- 40	41 - 54	55 - 66
					

Наставник _____

Родител _____