


1. КАДЕ СЕ КОРИСТИ СЕКОЕ
ПРЕВОЗНО СРЕДСТВО?
ПОВРЗИ ЗА ДА БИДЕ ТОЧНО.



○

○



○

○



○

○



○

○




○

○























2. КОЛКУ И КОИ ПРЕВОЗНИ СРЕДСТВА МОЖЕШ НА ПРОНАЈДЕШ НА ЦРТЕЖОТ?



Повеќе активности ќе најдете во
вежбанката по предметот
Општество за 3 одделение. Со
клик на сликата се овозможува
пристап до интернет-страницата
за нарачка.

3. СУДОКУ СО ПРЕВОЗНИ СРЕДСТВА


ВО ПРАЗНИТЕ ПОЛИЊА ЗАПИШИ ГО БРОЈОТ НА ПРЕВОЗНОТО СРЕДСТВО ШТО ТРЕБА ДА СТОИ ВО ТОА ПОЛЕ. ВНИМАВАЈ, ВО СЕКОЈА РЕДИЦА И ВО СЕКОЈА КОЛОНА ТРЕБА ДА ИМА ОД СЕКОЕ ПРЕВОЗНО СРЕДСТВО САМО ПО ЕДНАШ.

 1	 2	 3	 4	 5
				
				
				
				
				



Повеќе активности ќе најдете во вежбанката по предметот Општество за 3 одделение. Со клик на сликата се овозможува пристап до интернет-страницата за нарачка.

4. ПОПОЛНИ ГО КРСТОЗБОРОТ. СО ИМИЃАТА НА ПРЕВОЗНИТЕ СРЕДСТВА ДАДЕНИ СО СЛИКА.



ХОРИЗОНТАЛНО

4



6



7



9



10



ВЕРТИКАЛНО

1




2



3



5



8



Повеќе активности ќе најдете во вежбанката по предметот Општество за 3 одделение. Со клик на сликата се овозможува пристап до интернет-страницата за нарачка.