

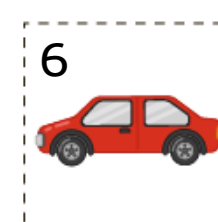
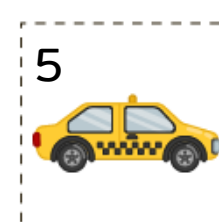

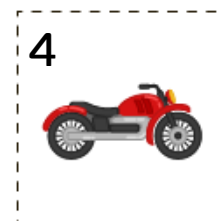
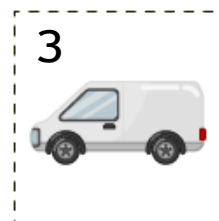
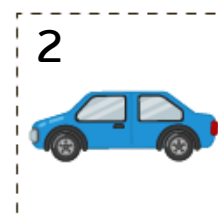
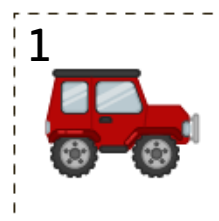
1. КАДЕ СЕ КОРИСТИ СЕКОЕ ПРЕВОЗНО СРЕДСТВО? ПОВРЗИ ЗА ДА БИДЕ ТОЧНО.



2. НА КОЈА СТРАНА Е СВРТЕНО СЕКОЕ ВОЗИЛО: НАЛЕВО ИЛИ НАДЕСНО? ВО ТАБЕЛИТЕ ЗАПИШИ ГИ БРОЕВИТЕ НА ВОЗИЛАТА ЗА ДА БИДЕ ТОЧНО.

 НАЛЕВО	

 НАДЕСНО	

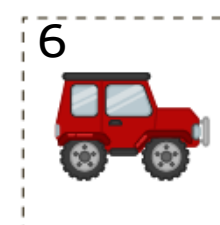
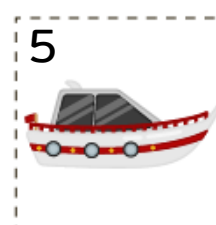
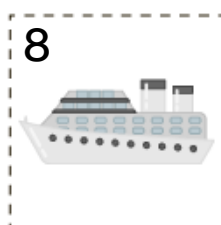

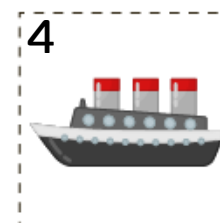
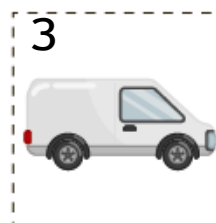
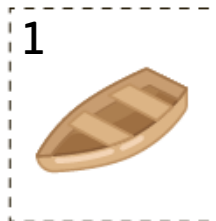


Повеќе активности ќе најдете во вежбанката по предметот Општество за 1 одделение. Со клик на сликата се овозможува пристап до интернет-страницата за нарачка.

3. КОИ ПРЕВОЗНИ СРЕДСТВА СЕ КОРИСТАТ НА ПАТ, А КОИ ВО ВОЗДУХ?
ВО ТАБЕЛИТЕ ЗАПИШИ ГИ БРОЕВИТЕ НА ВОЗИЛАТА ЗА ДА БИДЕ ТОЧНО.

НА ВОДА	

НА ПАТ	



4. КОЈ Е НАТРАПНИКОТ ВО СЕКОЈА НИЗА? ЗАОКРУЖИ ГО ПРЕВОЗНОТО
СРЕДСТВО ШТО НЕ ПРИПАЃА ВО НИЗАТА.



Повеќе активности ќе најдете во вежбанката по предметот Општество за 1 одделение. Со клик на сликата се овозможува пристап до интернет-страницата за нарачка.