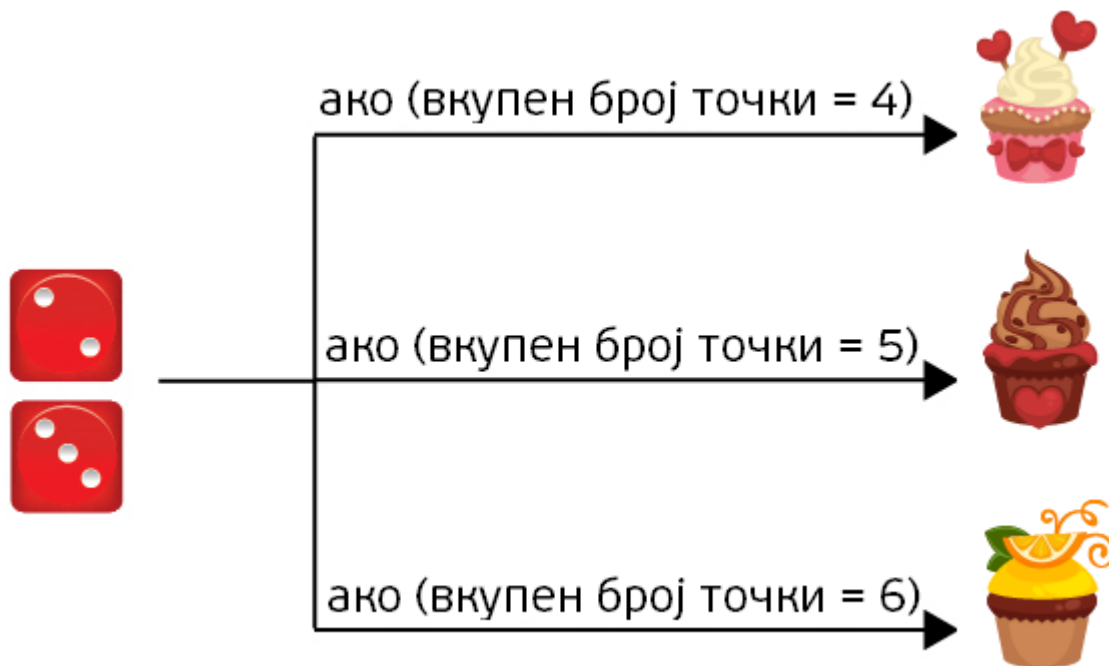


1. Изборот на едно колаче се прави во зависност од вкупниот број на точки на две коцки за играње. Се фрлаат коцките за играње само еднаш.

На сликата е прикажан алгоритмот за избор на колаче. Заокружи го избраното колаче во зависност од вкупниот број на точки на коцките.



2. Даден е алгоритам со кој се менува сликата на диносаурсот со клик на едно копче. Како ќе се смени сликата на диносаурсот откако ќе се кликне на синото копче?

Заокружи ја буквата кај точниот одговор.

АЛГОРИТАМ

почеток

ако (лев клик на црвено копче)

{смали ја сликата}

ако (лев клик на сино копче)

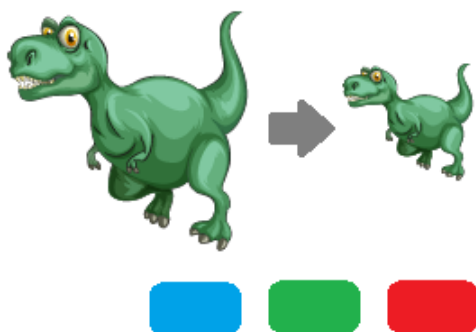
{сврти ја сликата}

крај

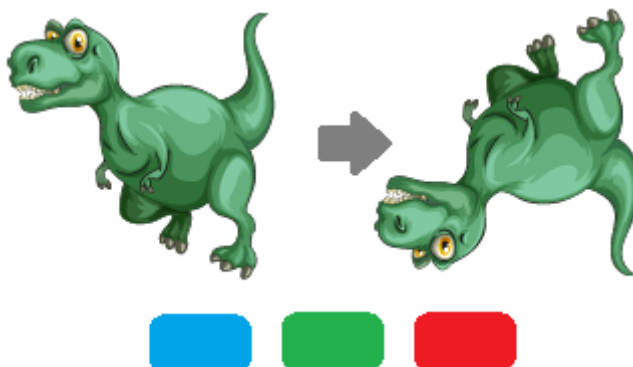


ОДГОВОР:

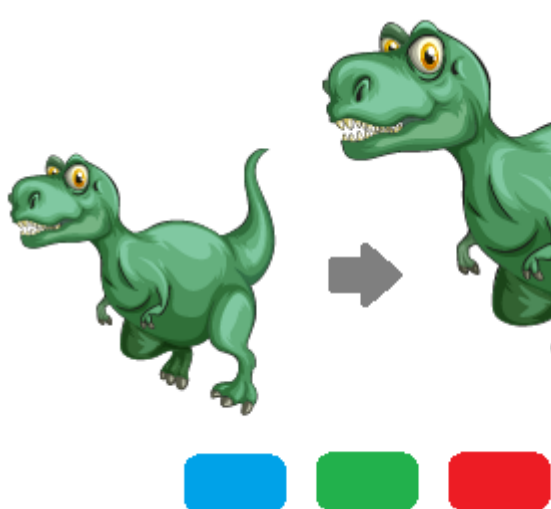
А.



Б.



В.



Повеќе активности ќе најдете во вежбанката по предметот Работа со компјутер и основи на програмирањето за 5 одделение. Со клик на сликата се овозможува пристап до интернет-страницата за нарачка.

