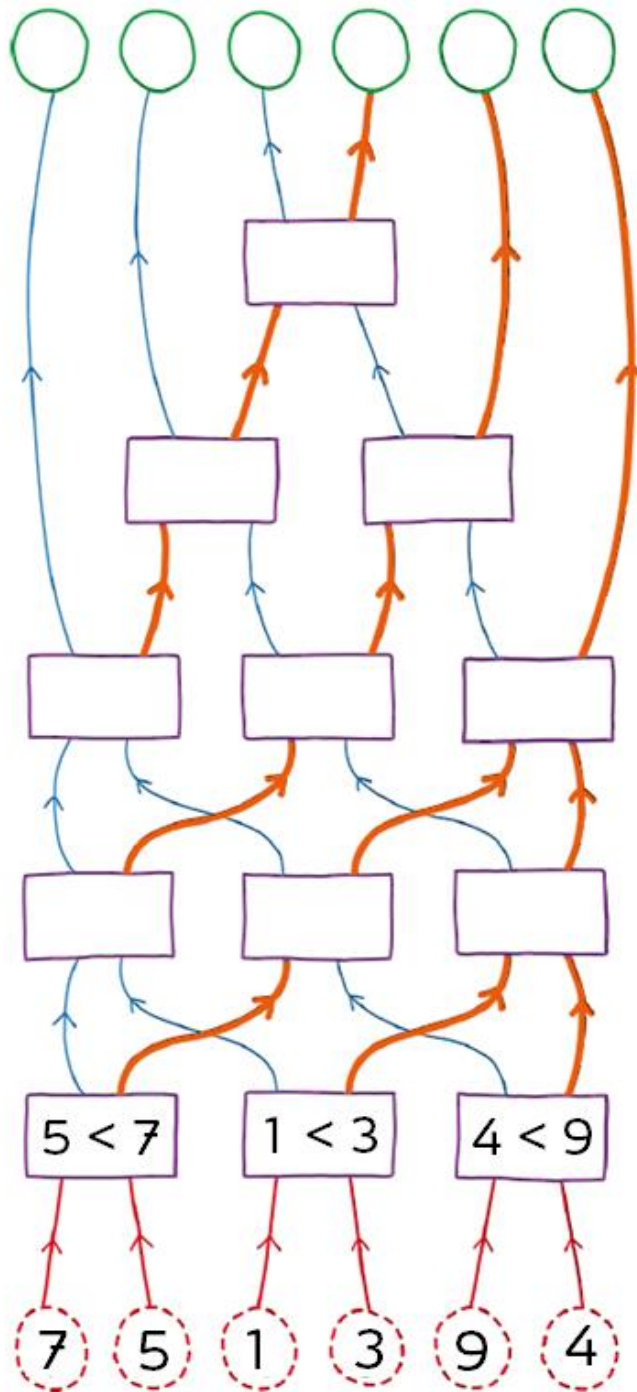


1. ПОДРЕДИ ГИ БРОЕВИТЕ ОД НАЈМАЛИОТ ДО НАЈГОЛЕМИОТ.

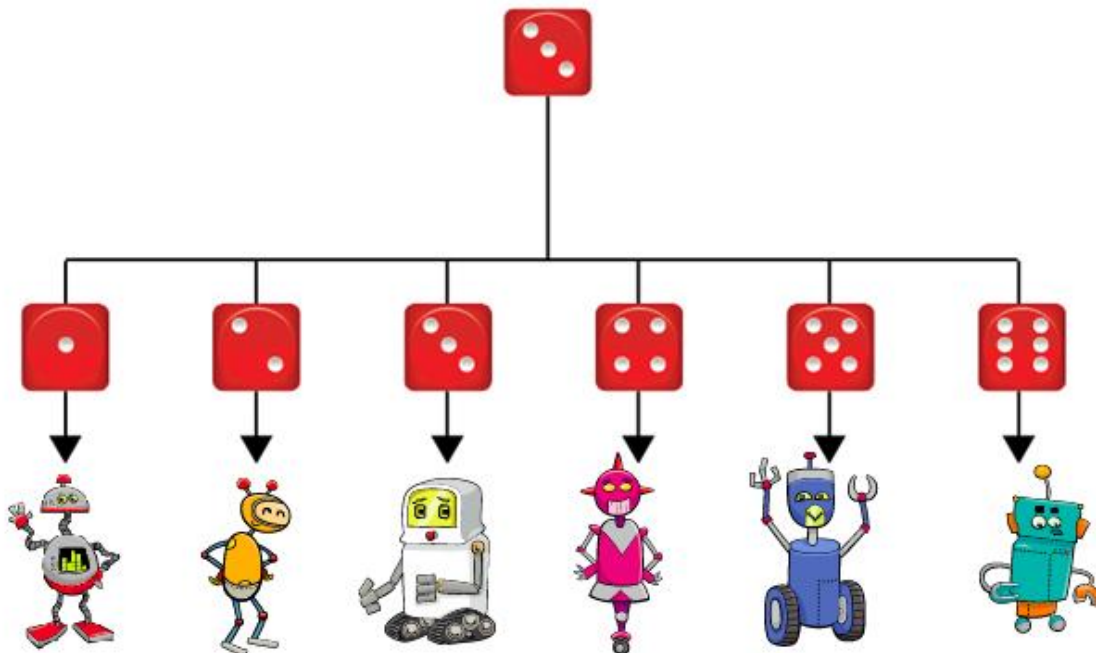
Во полињата најдолу се запишани броевите што треба да ги подредиш. Во правоаголниците треба да ги запишуваш споредувањата помеѓу паровите броеви. Поголемите броеви треба да ја следат портокаловата патека. Помалите броеви треба да ја следат сината патека. И така, на крајот, во зелените полиња ќе ги добиеш броевите подредени од најмалиот до најголемиот.



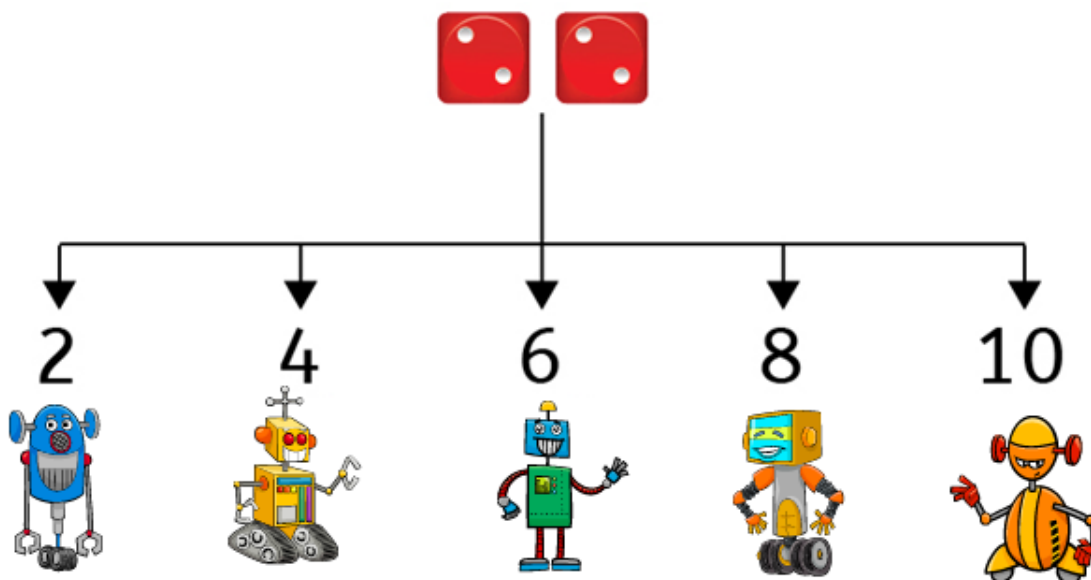
Повеќе активности ќе најдете во вежбанката по предметот Работа со компјутер и основи на програмирањето за 4 одделение. Со клик на сликата се овозможува пристап до интернет-страницата за нарачка.

2. Роботите треба да бидат избрани во зависност од бројот на точки на една коцка за играње. Се фрла коцката за играње само еднаш. Ако се паднал бројот прикажан на коцката, тогаш кој робот ќе биде избран? Заокружи го избраниот робот.

А.



Б.



Повеќе активности ќе најдете во вежбанката по предметот Работа со компјутер и основи на програмирањето за 4 одделение. Со клик на сликата се овозможува пристап до интернет-страницата за нарачка.