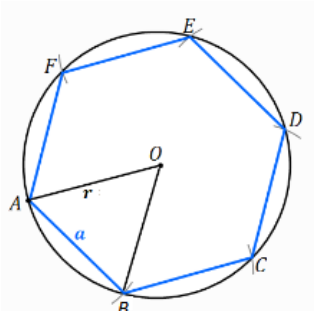


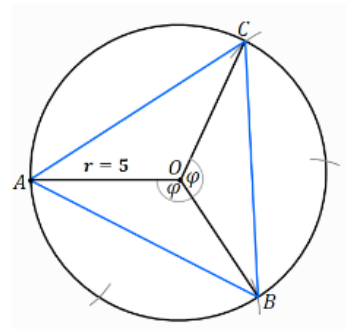
1. Конструирај правилен шестаголник, ако радиусот на кружницата опишана околу него е 4 cm.

скица



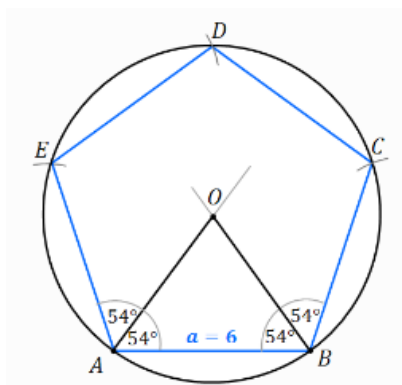
2. Конструирај правилен триаголник, ако радиусот на кружницата опишана околу него е 5 cm.

скица

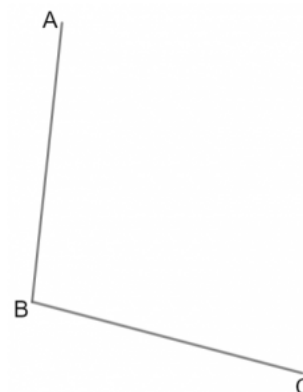


3. Конструирај правилен петаголник со страна долга 6 cm.

скица



4. Конструирај геометриско место на точки што се на еднакво растојание од АВ и од ВС.



5. Конструирај геометриско место на точки што се на растојание од 1 cm од дадената отсечка. (1 квадратче на мрежата означува 1 cm)



Повеќе задачи ќе најдете во Збирката и во Работната тетратка по математика за 9 одделение. Со клик на сликата се овозможува пристап до интернет-страницата за нарачка.

