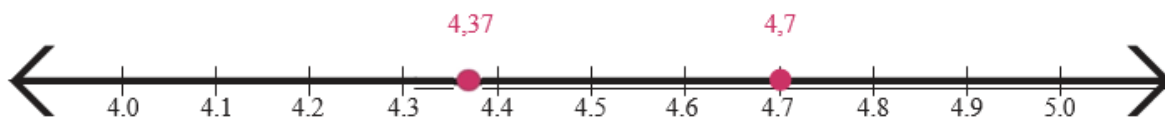


Датум: _____

Име и презиме: _____

Наставен лист Споредување децимални броеви

Кој е поголем 4,7 или 4,37?



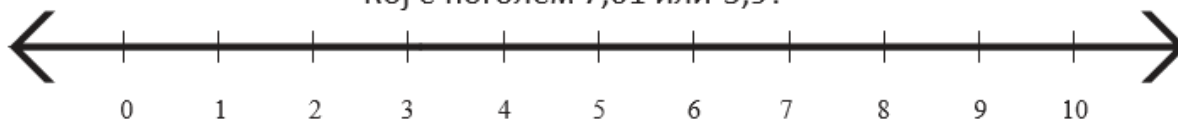
По должина на линијата, броевите кои се од десната страна се поголеми од броевите од левата страна.

$$4,7 \boxed{>} 4,37$$

4,7 е поголем од 4,37

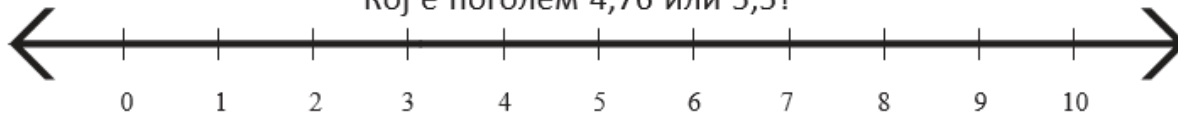
Најди го местото на децималните броеви по должина на линијата, а потоа користејќи ги знаците > или < спореди ги дадените децимални броеви.

Кој е поголем 7,01 или 3,9?



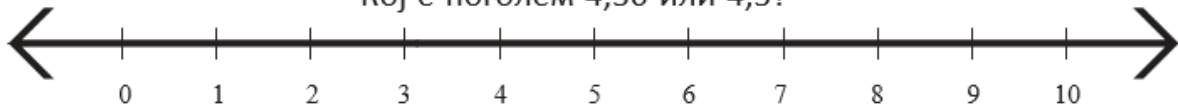
$$7,01 \boxed{} 3,9$$

Кој е поголем 4,76 или 5,5?



$$4,76 \boxed{} 5,5$$

Кој е поголем 4,30 или 4,3?



$$4,30 \boxed{} 4,3$$

Родител

Наставник