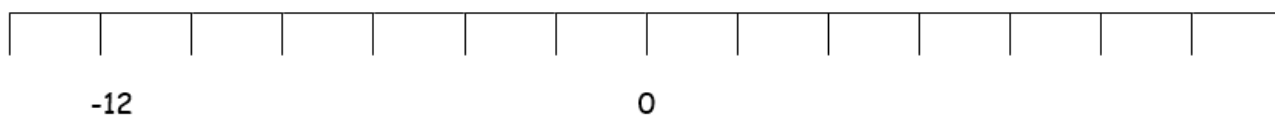
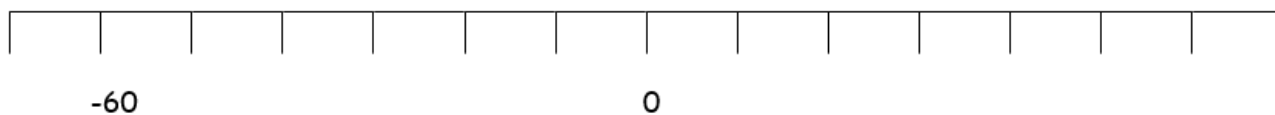
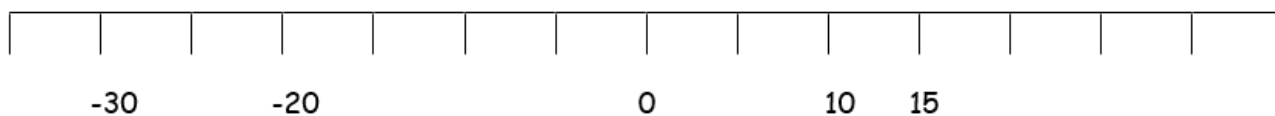
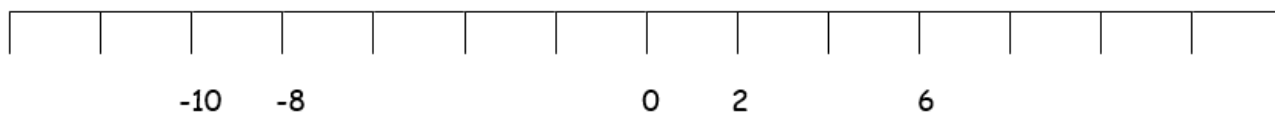
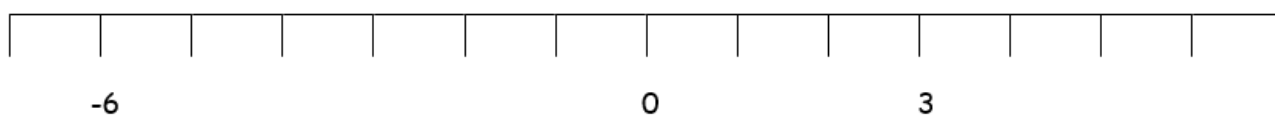


Датум: \_\_\_\_\_ Име и презиме: \_\_\_\_\_

## Наставен лист Негативни броеви

Доврши ги бројните оски:



Датум: \_\_\_\_\_

Име и презиме: \_\_\_\_\_

### Собирање и одземање со негативни броеви



Со помош на бројната оска пресметај ги бројните изрази:

$2 - 3 =$

$1 - 4 =$

$4 - 5 =$

$3 - 6 =$

$2 - 7 =$

$1 - 4 =$

$3 - 4 =$

$1 - 2 =$

$5 - 7 =$

$4 - 6 =$

$5 - 3 =$

$4 - 2 =$

$-1 - 3 =$

$-4 - 1 =$

$-2 - 2 =$

$3 - 5 =$

$-4 + 2 =$

$-2 + 5 =$

$-1 + 3 =$

$-3 + 7 =$

$-5 + 4 =$

$-2 + 6 =$

$-5 + 1 =$

$0 - 3 =$

$-5 + 5 =$

Родител .....

Наставник .....