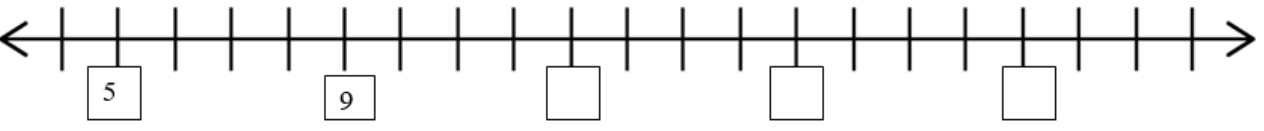


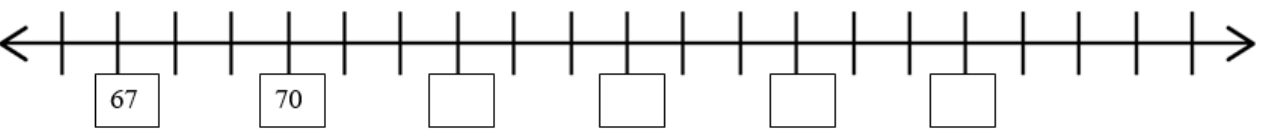
Датум: _____

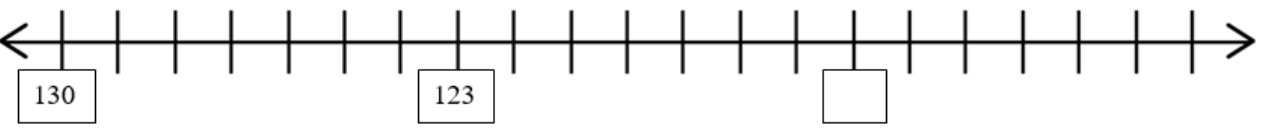
Име и презиме: _____

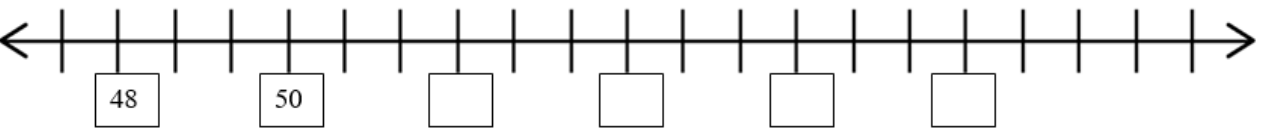
Наставен лист Бројни низи


Искажи го правилото според кое е формирана секоја низа, а потоа
запиши уште четири броеви во секоја низа.
ПОЧНИ ОД ... И БРОЈ НАНАПРЕД ПО ...

1. 

2. 

3. 

4. 

5. 

Запиши го броевите во горната (петта) низа за која важи правилото:
Почни од 86 и број наназад по три.

Родител

Наставник