


Датум: \_\_\_\_\_

Име и презиме: \_\_\_\_\_

## Наставен лист Избор на мерка

Избирање соодветна единица мерка за должина, тежина, зафатнина и време.  
Избери и заокружи го точниот одговор:

**Должина на лажица**



5 l      1 dm 9cm      3 kg

**Длабочина на кадата**



20 l      67 cm      17 kg

**Висината на човекот**



85 kg      1m 78cm      28 год.

**КОЛИЧИНА НА МЛЕКО**



5cm      2 l      3 kg

**МАСА НА АВТОМОБИЛ**




876kg      4m      3 год.

**ЦЕНА НА КОЛИЧКА**




1000 ден      17kg      67cm

**РОК НА ТРАЕЊЕ НА ПАСТАТА**



1год.      14 cm      100 g

**ДАТА НА ПРОИЗВОДСТВО  
НА ЛЕПАКОТ**



24.1.2015      пред 3 год.

Датум: \_\_\_\_\_

Име и презиме: \_\_\_\_\_

Метар, дециметар, сантиметар, милиметар, километар, килограм, грам, тон, литар,  
милилитар

Која е најдобра мерка за мерење?



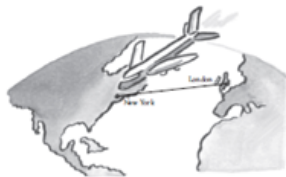
должина на црвот \_\_\_\_\_



должина на леата цвеќе во градината \_\_\_\_\_



количество млеко во чашата \_\_\_\_\_



растојанието меѓу Лондон и Њујорк \_\_\_\_\_



должина на желката \_\_\_\_\_



количество вода во кофата \_\_\_\_\_

Родител .....

Наставник .....