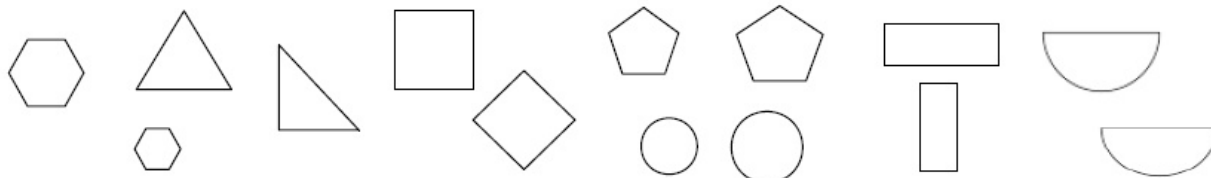


Датум: _____

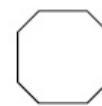
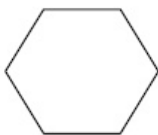
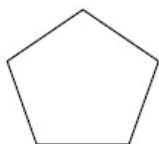
Име и презиме: _____

Наставен лист Геометриски форми

1. Групирај ги геометриските форми!



2. Именувај ги геометриските форми!



3. опиши го квадратот!

Полукругот има _____ рабови и _____ темиња.

4. Формата што има 6 рабови и 6 темиња се вика _____.

Родител

Наставник