


1. Приказната за Црвенкапа се измешала. Одреди го точниот редослед на настаните во приказната. Подреди ги сликите во редослед така што ќе ги запишуваш броевите 1, 2, 3, ... Првата слика со реден број 1 е веќе дадена.





















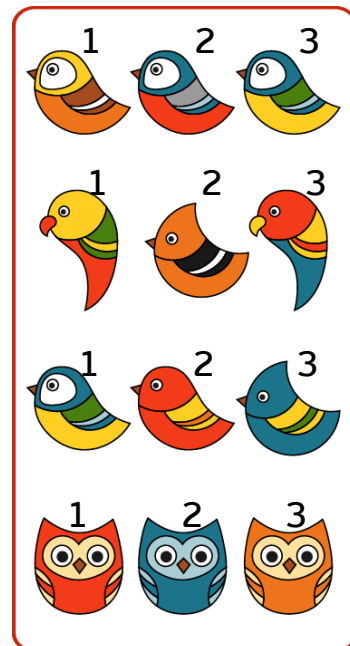





Повеќе задачи ќе најдете во Збирката задачи со активности и по математика за 1 одделение. Со клик на сликата се овозможува пристап до интернет-страницата за нарачка.




2. Која слика недостига во секоја низа? Запиши го бројот на сликата што треба да стои во секоја низа за да бидат точни низите.



решенија: 3, 2, 1, 3

3. Кои слики недостигаат во секоја низа? Запиши ги броевите на сликите што треба да стојат во секоја низа за да бидат точни низите.



решенија: 1, 3; 2, 4, 10; 6, 8; 7, 9, 5

Повеќе задачи ќе најдете во Збирката задачи со активности и по математика за 1 одделение. Со клик на сликата се овозможува пристап до интернет-страницата за нарачка.

