







1. Пресметај и запиши ја вкупната вредност на монетите.

|  |         |
|--|---------|
|    | 14 ден. |
|    | ден.    |
|    | ден.    |
|    | ден.    |
|  | ден.    |
|  | ден.    |

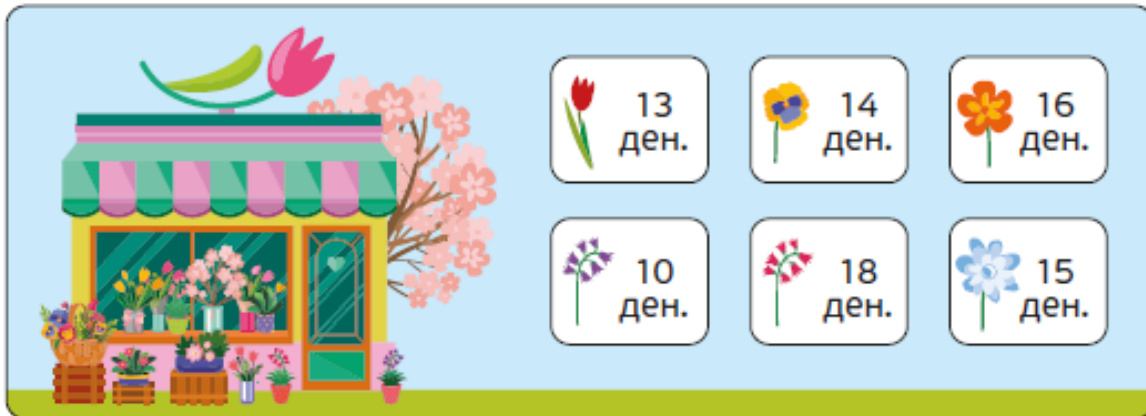
2. Пресметај ја вкупната вредност на монетите и заокружи го точниот одговор.


|   |                               |  |                               |
|---|-------------------------------|--|-------------------------------|
|  | 20 ден.<br>15 ден.<br>50 ден. |  | 8 ден.<br>5 ден.<br>10 ден.   |
|  | 6 ден.<br>100 ден.<br>60 ден. |  | 40 ден.<br>60 ден.<br>65 ден. |



Повеќе задачи ќе најдете во Збирката задачи со тестови по математика за 2 одделение. Со клик на сликата се овозможува пристап до интернет-страницата за нарачка.






2. Во цвеќарницата има од следниве цветови и секој од нив се продава по дадената цена.







а) Кјара има 50 денари. Купила 2 . Колку пари ѝ останале?  
 \_\_\_\_\_ + \_\_\_\_\_ = \_\_\_\_\_ ден. Останале 50 - \_\_\_\_\_ = \_\_\_\_\_ ден.

б) Дина купила 3  и 1 . Колку вкупно платила?  
 \_\_\_\_\_ + \_\_\_\_\_ + \_\_\_\_\_ + \_\_\_\_\_ = \_\_\_\_\_ денари

в) За роденденот на мајка му, Иво купил 2 , 1  и 2 .  
 Колку вкупно денари платил Иво?  
 \_\_\_\_\_ + \_\_\_\_\_ + \_\_\_\_\_ + \_\_\_\_\_ + \_\_\_\_\_ = \_\_\_\_\_ денари

г) Софи има две монети од по 50 денари. Сака да купи два букета за 8 Март, еден за мајка ѝ и еден за баба ѝ.

За мајка ѝ купила 3  и 1 . За баба ѝ купила 2  и 1 .

Колку пари ѝ останале на Ема?

Букет за мајка ѝ = \_\_\_\_\_ + \_\_\_\_\_ + \_\_\_\_\_ + \_\_\_\_\_ = \_\_\_\_\_ денари

Останале = 50 - \_\_\_\_\_ = \_\_\_\_\_ денари.

Букет за баба ѝ = \_\_\_\_\_ + \_\_\_\_\_ + \_\_\_\_\_ + \_\_\_\_\_ = \_\_\_\_\_ денари

Останале = 50 - \_\_\_\_\_ = \_\_\_\_\_ денари.

Вкупно останале = \_\_\_\_\_ + \_\_\_\_\_ = \_\_\_\_\_ денари

Повеќе задачи ќе најдете во Збирката задачи со тестови по математика за 2 одделение. Со клик на сликата се овозможува пристап до интернет-страницата за нарачка.

