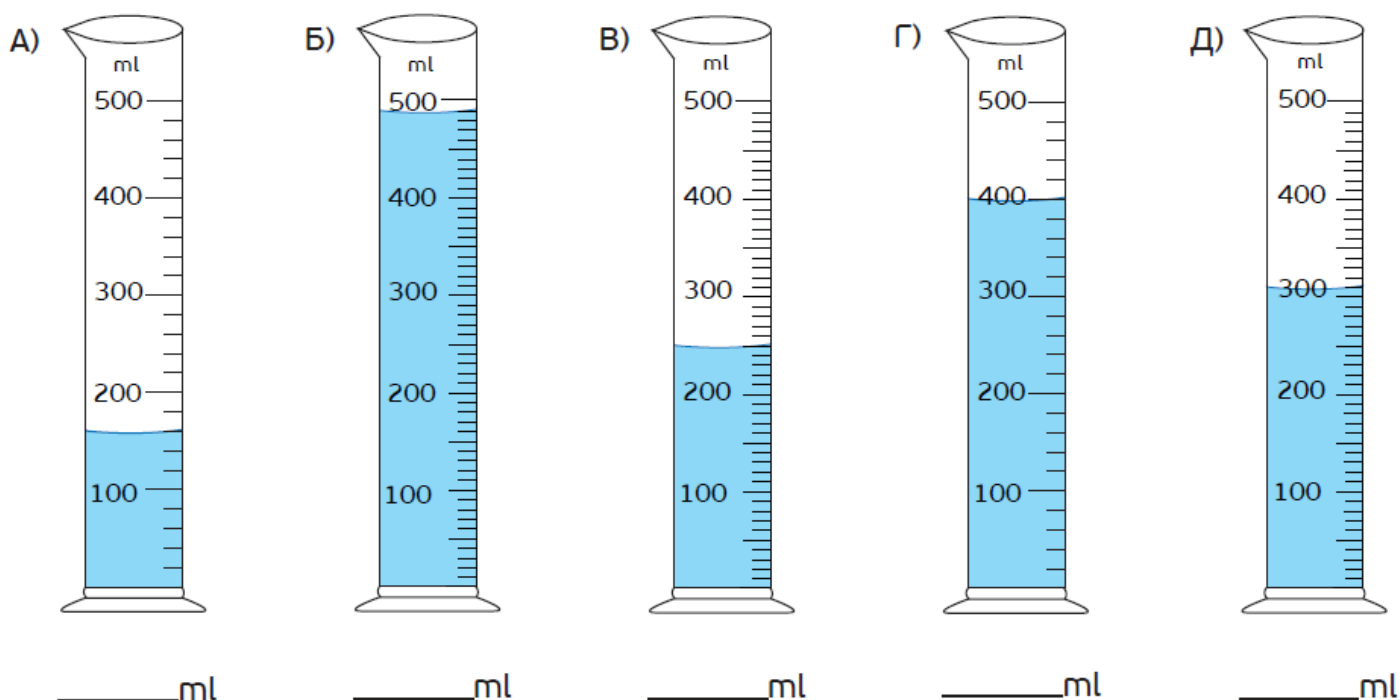
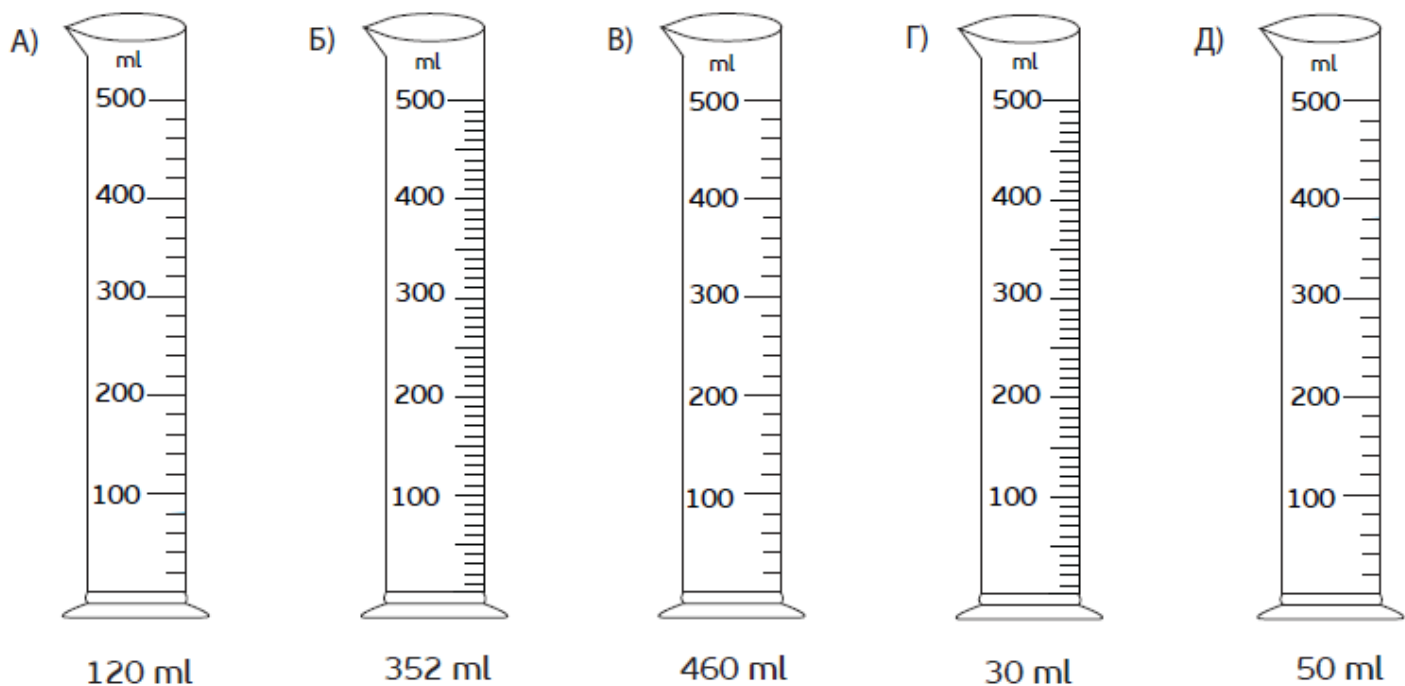


1. Запиши го волуменот на течноста во секој сад.



2. Обој го секој сад според дадениот волуменот на течноста во него.



Повеќе задачи ќе најдете во Збирката задачи со тестови по математика за 4 одделение. Со клик на сликата се овозможува пристап до интернет-страницата за нарачка.

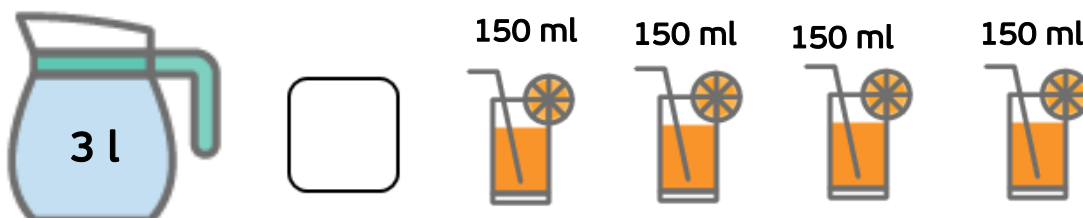


3. Според податоците на сликите спореди ги волумените на течностите.
Користи ги знаците $<$, $>$ или $=$.

A)



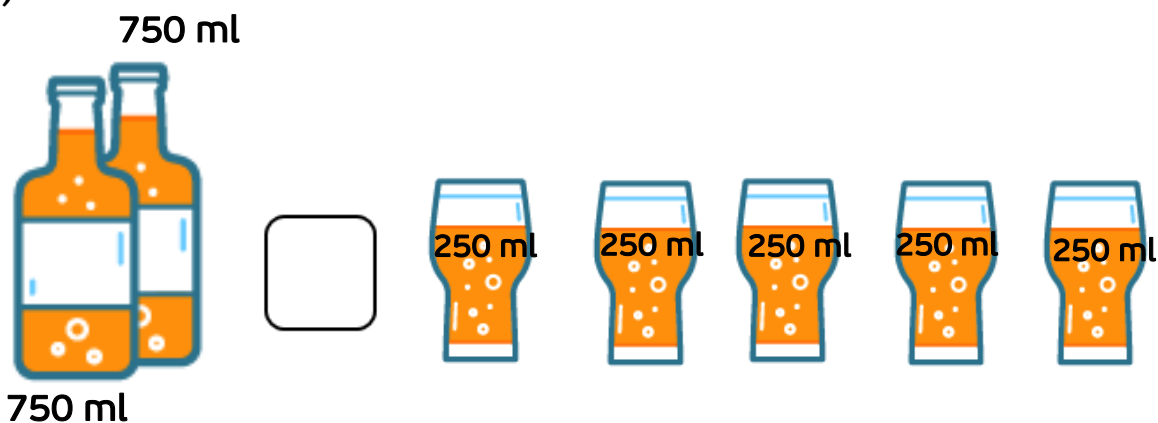
Б)



В)



Г)



Повеќе задачи ќе најдете во
Збирката задачи со тестови по
математика за 4 одделение.
Со клик на сликата се овозможува
пристап до интернет-страницата
за нарачка.



4. Според податоците на сликите запиши ги бараните волумени.

A)



Б)



В)



Повеќе задачи ќе најдете во Збирката задачи со тестови по математика за 4 одделение. Со клик на сликата се овозможува пристап до интернет-страницата за нарачка.

