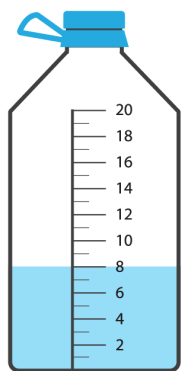
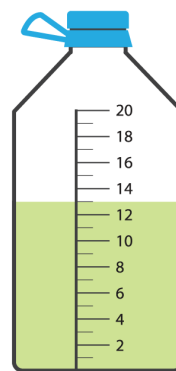


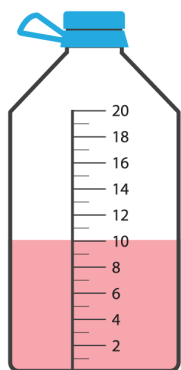
1. Колку течност има во секое шише? Прочитај и запиши во празното поле под секое шише. Првиот пример е веќе решен.



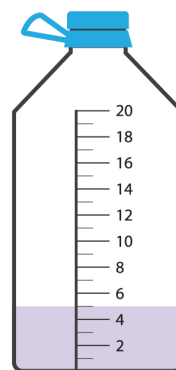
8 литри



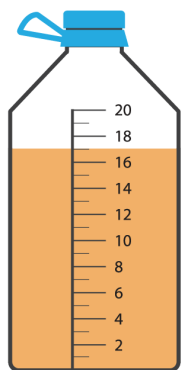
\_\_\_\_\_ литри



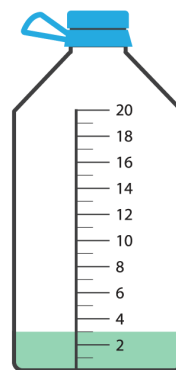
\_\_\_\_\_ литри



\_\_\_\_\_ литри



\_\_\_\_\_ литри

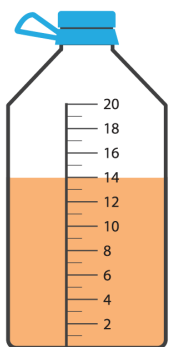


\_\_\_\_\_ литри

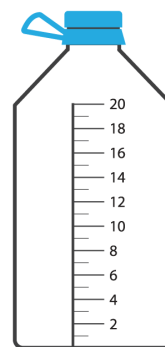
Повеќе задачи ќе најдете во Збирката задачи со активности и по математика за 1 одделение. Со клик на сликата се овозможува пристап до интернет-страницата за нарачка.



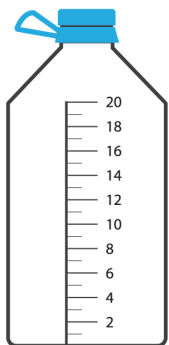
2. Колку течност треба да има во секое шише? Прочитај и обој го секое шише. Првиот пример е веќе решен.



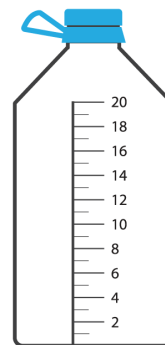
14 литри



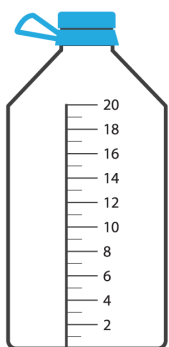
16 литри



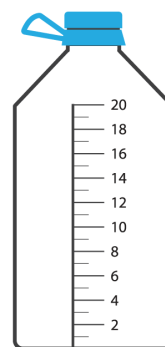
10 литри



7 литри



3 литри



19 литри

Повеќе задачи ќе најдете во Збирката задачи со активности и по математика за 1 одделение. Со клик на сликата се овозможува пристап до интернет-страницата за нарачка.

