
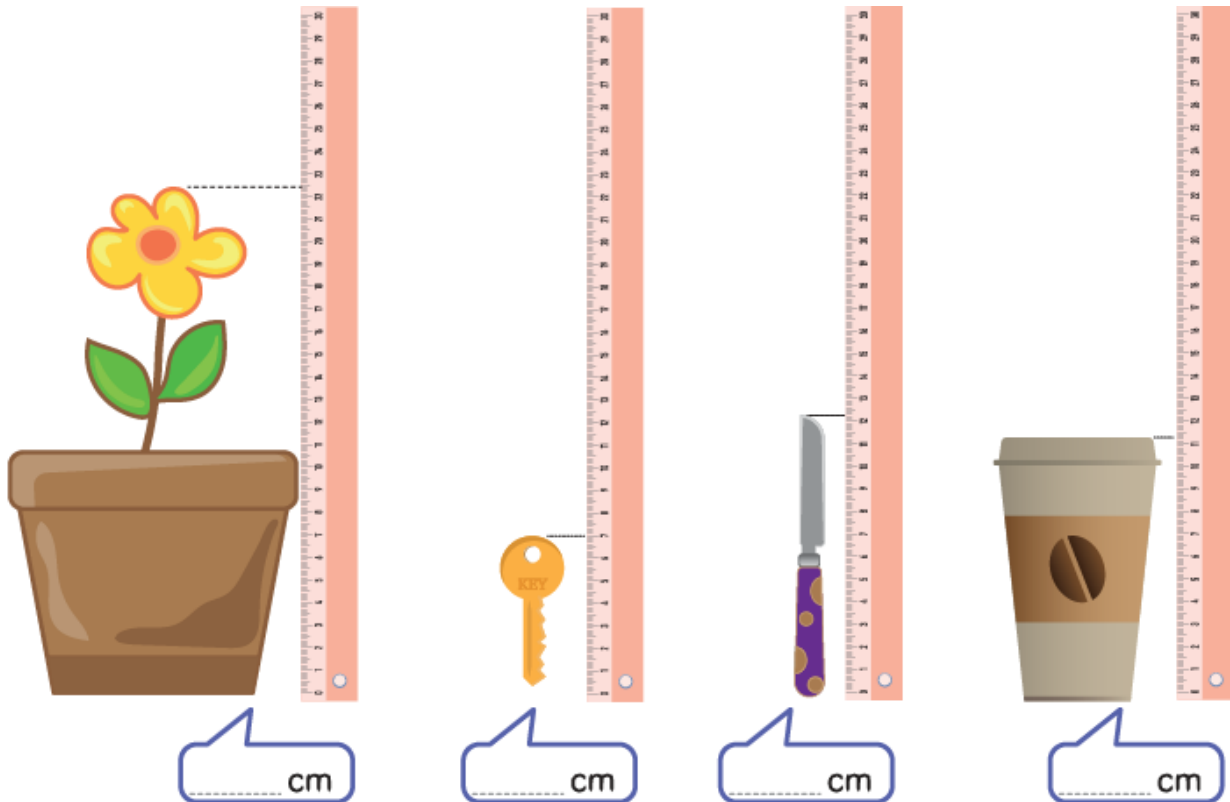



1. Колкава е висината на секој предмет во сантиметри?
Прочитај и запиши.



Повеќе задачи ќе најдете во Збирката задачи со тестови по математика за 1 одделение. Со клик на сликата се овозможува пристап до интернет-страницата за нарачка.




2. Подреди ги дрвата по висина. Кај највисокото дрво запиши го бројот 1 и така по ред 2, 3, 4, 5, 6.







3. Животните се наредени во една редица.



А) Кој е највисок? Заокружи го. Кој е најнизок? Пречкртај го?



Б) Заокружи го точниот одговор.

 е повисок / понизок од 

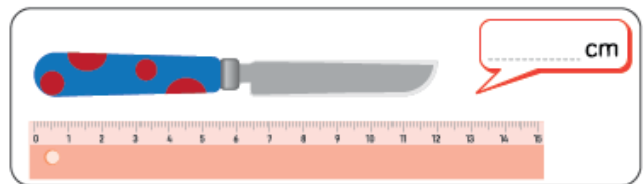
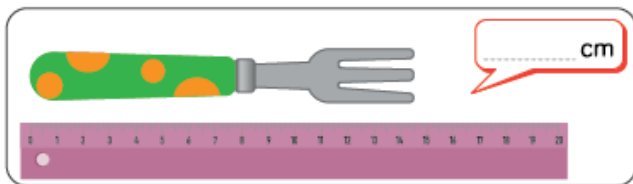
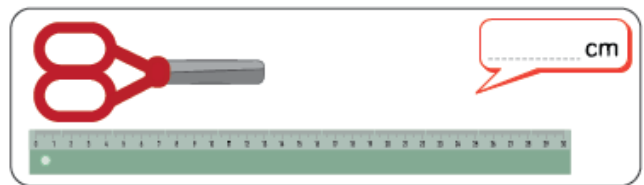
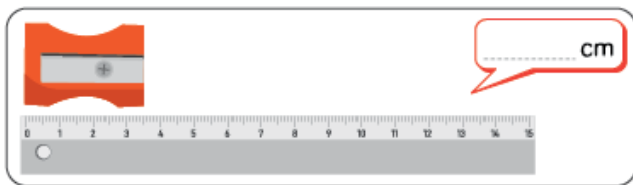
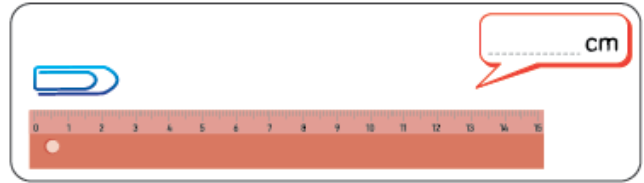
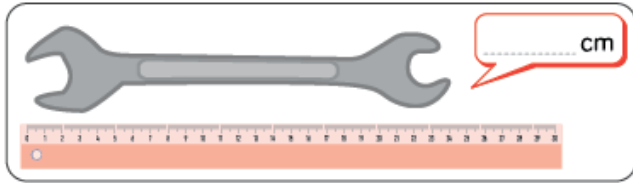
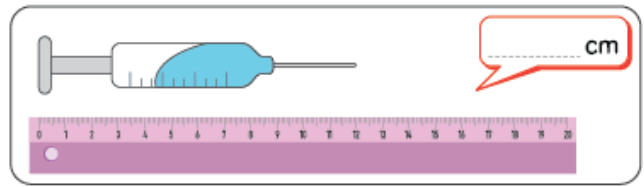
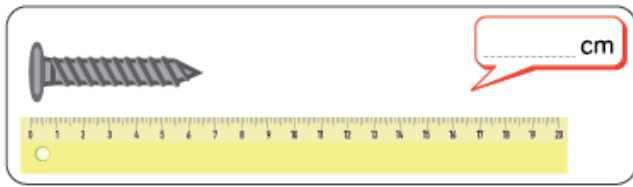
 е повисока / пониска од 

 е повисока / пониска од 

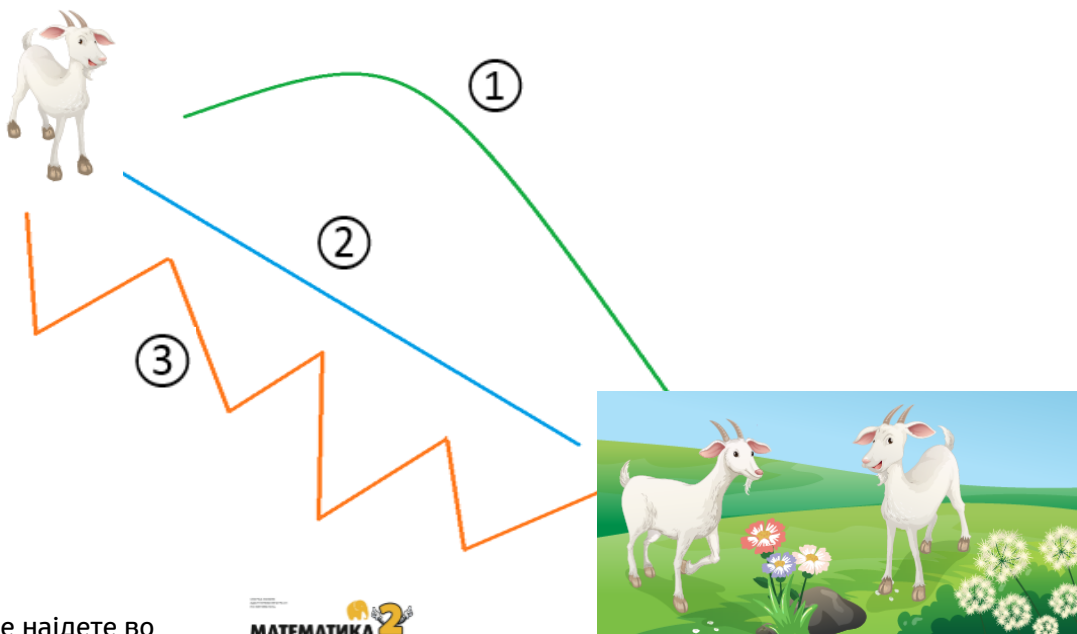
Повеќе задачи ќе најдете во Збирката задачи со тестови по математика за 1 одделение. Со клик на сликата се овозможува пристап до интернет-страницата за нарачка.



4. Колкава е должината на секој предмет во сантиметри?
Прочитај и запиши.




5. Малата козичка брза да стигне кај своите другарчиња на полјаната. Има три патеки по кои може да се движи. Која е најкратката патека по која козичката треба да оди? Заокружи го точниот одговор. За мерење можеш да користиш линијар и/или конец.



Повеќе задачи ќе најдете во Збирката задачи со тестови по математика за 1 одделение. Со клик на сликата се овозможува пристап до интернет-страницата за нарачка.



6. Разгледај ги внимателно сликите. Прочитај и пополни ги празните полиња.



- А) Автобусот е за 2 метра подолг од хеликоптерот.
Автобусот е долг ____ метри.
- Б) Автомобилот е за 8 метри пократок од автобусот.
Автомобилот е долг ____ метри.
- В) Автомобилот е за ____ пократок од хеликоптерот.
- Г) Заокружи го точниот одговор.
Најкратко превозно средство е:



- Д) Пречкртај го точниот одговор.
Најдолго превозно средство е:



Повеќе задачи ќе најдете во Збирката задачи со тестови по математика за 1 одделение. Со клик на сликата се овозможува пристап до интернет-страницата за нарачка.

