


НЕОБИЧЕН ЛАВИРИНТ

Малата Бони треба да го помине лавиринтот од 2Д-форми за да стигне кај своите пријателчиња. Пронајди го патот, така што ќе ги боиш само триаголниците во лавиринтот.



Повеќе задачи ќе најдете во Збирката задачи со тестови по математика за 4 одделение. Со клик на сликата се овозможува пристап до интернет-страницата за нарачка.



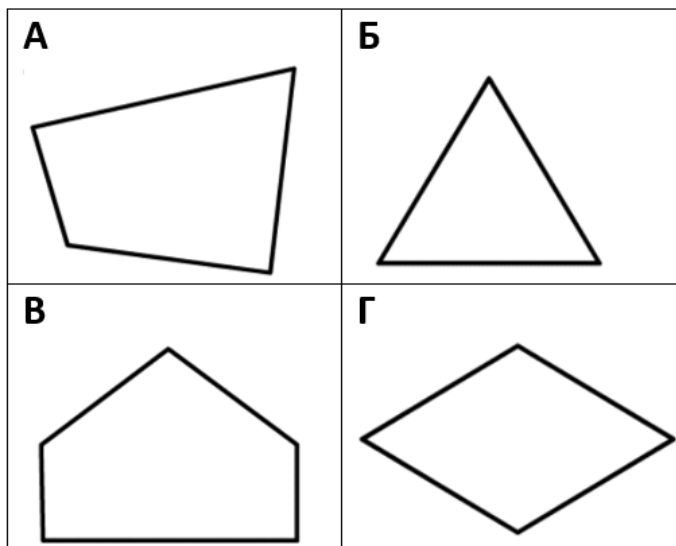
ОДГАТНИ!

Погоди која форма се крие зад секоја загатка.

1. Која форма сум јас?

- Имам еден пар паралелни страни.
- Имам и прави агли.
- Не сум четириаголник.

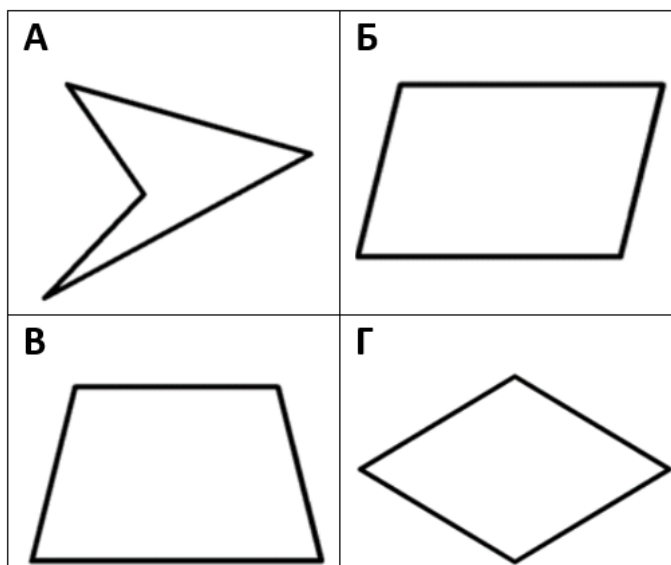
одговор: _____



2. Која форма сум јас?

- Не сум правилен многуаголник.
- Имам два остри агла.
- Сите мои страни имаат еднакви должини.

одговор: _____



Повеќе задачи ќе најдете во Збирката задачи со тестови по математика за 4 одделение. Со клик на сликата се овозможува пристап до интернет-страницата за нарачка.

