

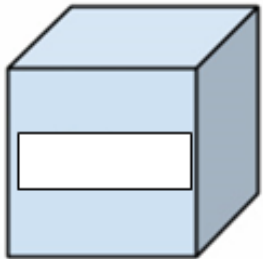
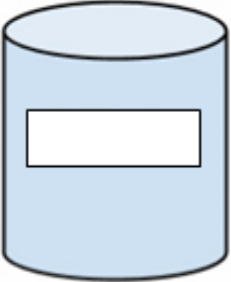
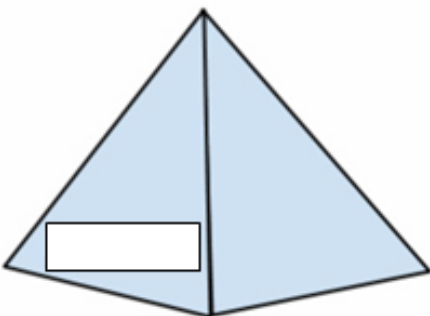
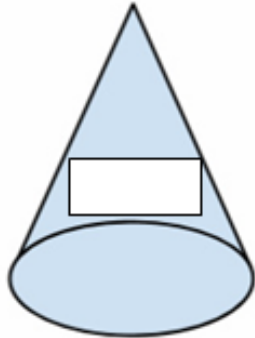


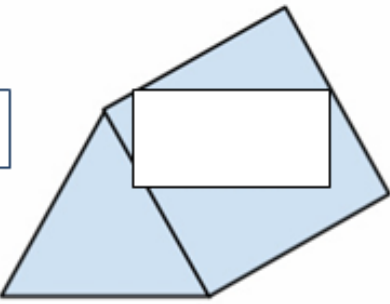
Датум: _____

Име и презиме: _____

Наставен лист

Рабови, темиња и страни кај 3Д форми

Под секоја слика запиши колку рабови, темиња и страни има секоја 3Д форма, а внатре во 3Д формата запиши го нејзиното име.

 <input type="text"/>	 <input type="text"/>	 <input type="text"/>
 <input type="text"/>	 <input type="text"/>	 <input type="text"/>
 <input type="text"/>		

Родител

Наставник