

Датум: _____

Име и презиме: _____

Наставен лист
Препознава половина од парните броеви до 10


1. Напиши ги парните броеви од првата десетка:

2.



Треба да изедат исто моркови.

 1 ќе изеде _____ моркови.

 2 ќе изеде _____ моркови.

3.




Ако на двата цвета треба да летнат подеднаков број пеперутки, тогаш на двата цвета ќе летнат по _____ пеперутки.

Датум: _____

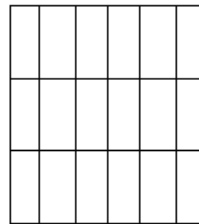
Име и презиме: _____

4.

Ако во една зоолошка имало 6 тигри, а два кафеза, по колку тигри треба да се стават во кафезите за да има подеднаков број тигри во двата кафеза?



K1



K2

Во кафез 1 ќе има _____ тигри.

Во кафез 2 ќе има _____ тигри.

5.



На една улица си играле две деца. По колку топки имало секое од децата, ако имале подеднаков број топки?



_____ ТОПКИ



_____ ТОПКИ

Родител

Наставник