


Име и презиме: \_\_\_\_\_

Датум: \_\_\_\_\_

Пресметај и обој!



$3 - 2 = \text{сина}$

$5 - 3 = \text{црвена}$

$7 - 4 = \text{зелена}$

$3 + 1 = \text{темно зелена}$

$10 - 5 = \text{жолта}$

$5 + 1 = \text{портокалова}$

$8 - 7 = \text{кафеава}$

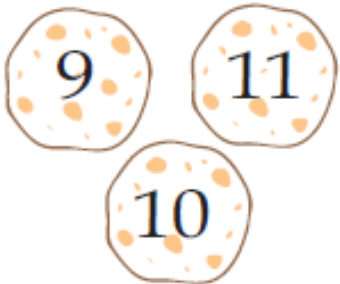
$4 + 4 = \text{бела}$

Име и презиме: \_\_\_\_\_

Датум: \_\_\_\_\_

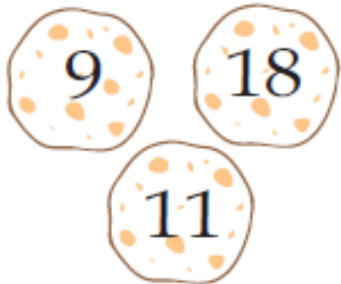
Пресметај го збирот во секој квадрат и обој го колачето со точниот одговор.

$2 + 9 = \underline{\quad}$



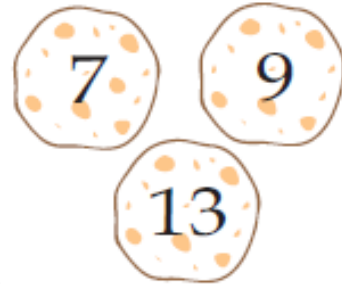
9 11  
10

$9 + 9 = \underline{\quad}$



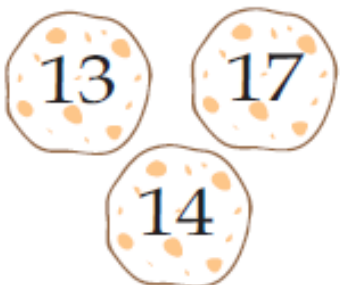
9 18  
11

$5 + 8 = \underline{\quad}$



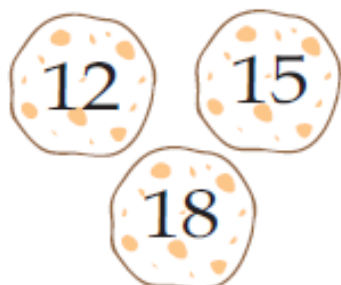
7 9  
13

$7 + 7 = \underline{\quad}$



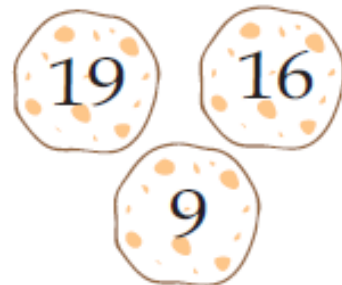
13 17  
14

$8 + 4 = \underline{\quad}$




12 15  
18

$7 + 9 = \underline{\quad}$



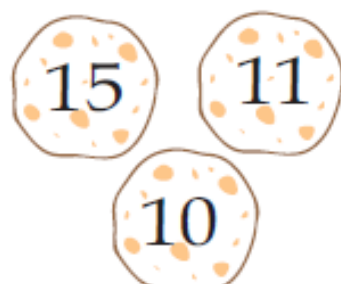
19 16  
9

$8 + 9 = \underline{\quad}$



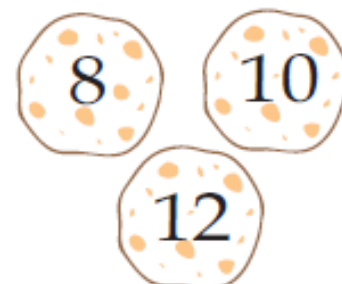
17 4  
9

$9 + 6 = \underline{\quad}$



15 11  
10

$7 + 5 = \underline{\quad}$




8 10  
12

Име и презиме: \_\_\_\_\_

Датум: \_\_\_\_\_


### 1. 3 повеќе, 3 помалку.

Во горното топче сладолед запиши број за 3 поголем од дадениот, а во најдолното топче сладолед, број за три помал од дадениот.



### 2. 5 помалку, 5 повеќе.

Во горното топче сладолед запиши број за 5 помал од дадениот, а во најдолното топче сладолед, број за пет поголем од дадениот.

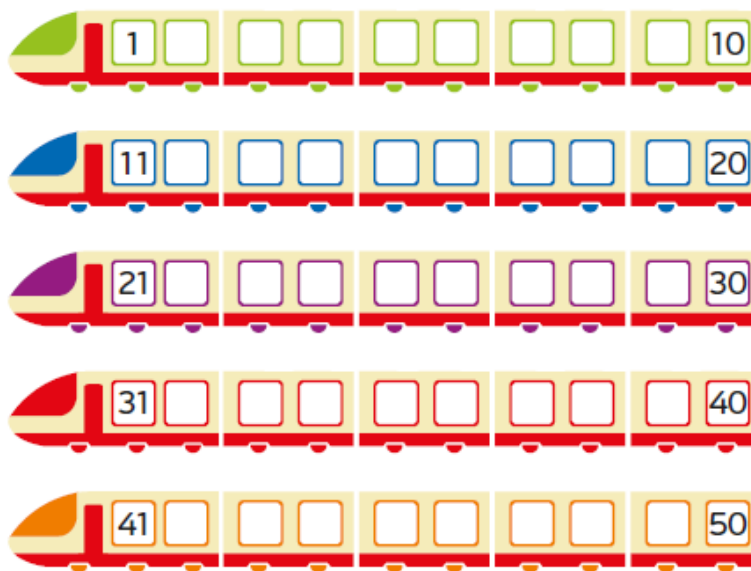


Име и презиме: \_\_\_\_\_

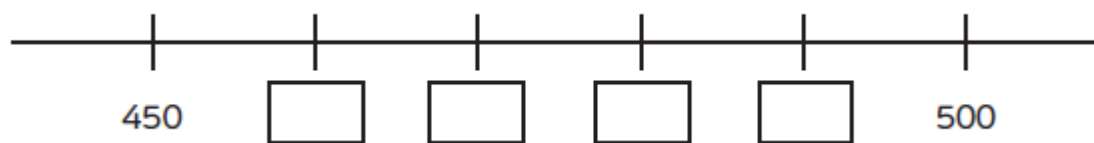
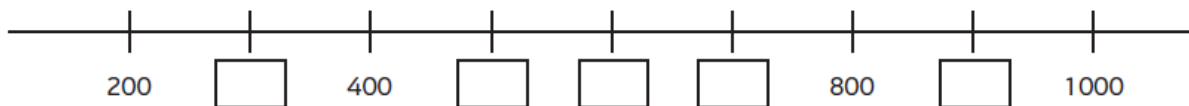
Датум: \_\_\_\_\_

1. Запиши го секој од броевите на точното место. Запишаните броеви веќе се пречкртани во табелата со броеви.

|              |               |               |               |               |               |
|--------------|---------------|---------------|---------------|---------------|---------------|
| <del>1</del> | 38            | 48            | 29            | <del>11</del> | 49            |
| 17           | 18            | 25            | 32            | <del>41</del> | 8             |
| 3            | 2             | 28            | <del>10</del> | 37            | 47            |
| 42           | 19            | 24            | 43            | 26            | 46            |
| 5            | 27            | 44            | 9             | 36            | 45            |
| 14           | <del>50</del> | <del>21</del> | 23            | <del>31</del> | <del>40</del> |
| 7            | 15            | 16            | 12            | 4             | <del>20</del> |
| 22           | 13            | 6             | <del>30</del> | 33            | 34            |
| 35           | 39            |               |               |               |               |



2. Запиши ги броевите што недостигаат на секоја бројна оска.



3. Запиши ги следниве броеви на точното место на бројната оска: 520, 570, 600, 610, 550, 640, 540, 630.



Име и презиме: \_\_\_\_\_

Датум: \_\_\_\_\_

1. Обој го најмалиот број во секоја група.



2. Запиши ги броевите по ред од најмалиот до најголемиот.



\_\_\_\_\_

Име и презиме: \_\_\_\_\_

Датум: \_\_\_\_\_

Под секој збор има по три тврдења. Кај секое тврдење, во квадратчето запиши

за точно или  за неточно. 

### ПИНГВИН

- И е прва буква во зборот.
- Г е четврта буква во зборот.
- Ве петта буква во зборот.




### ВИНОЖИТО

- В е прва буква во зборот.
- Н е петта буква во зборот.
- Ж е последна буква во зборот.



### ЛУБЕНИЦА

- Ц е седма буква во зборот.
- Б е трета буква во зборот.
- Л е осма буква во зборот.



### РИБА

- Р е прва буква во зборот.
- А е четврта буква во зборот.
- Б е шеста буква во зборот.



Име и презиме: \_\_\_\_\_

Датум: \_\_\_\_\_

1. Број до 50 по два чекора наназад. Обој ги погрешните броеви.



2. Во табелата обој ги со црвена боја полињата со броевите што не се на своето место.

|    |    |    |    |    |    |    |    |    |     |
|----|----|----|----|----|----|----|----|----|-----|
| 1  | 2  | 3  | 4  | 6  | 5  | 7  | 8  | 9  | 10  |
| 11 | 12 | 13 | 14 | 15 | 16 | 17 | 18 | 19 | 30  |
| 21 | 22 | 53 | 24 | 25 | 26 | 77 | 28 | 29 | 30  |
| 11 | 32 | 33 | 33 | 35 | 36 | 37 | 38 | 39 | 40  |
| 41 | 42 | 43 | 44 | 45 | 16 | 47 | 48 | 49 | 100 |
| 51 | 52 | 53 | 54 | 55 | 56 | 57 | 58 | 59 | 60  |
| 61 | 62 | 63 | 64 | 65 | 66 | 57 | 58 | 69 | 70  |
| 71 | 72 | 73 | 74 | 15 | 76 | 77 | 18 | 79 | 80  |
| 81 | 81 | 81 | 84 | 85 | 86 | 87 | 88 | 89 | 90  |
| 91 | 92 | 93 | 54 | 45 | 96 | 97 | 98 | 88 | 100 |