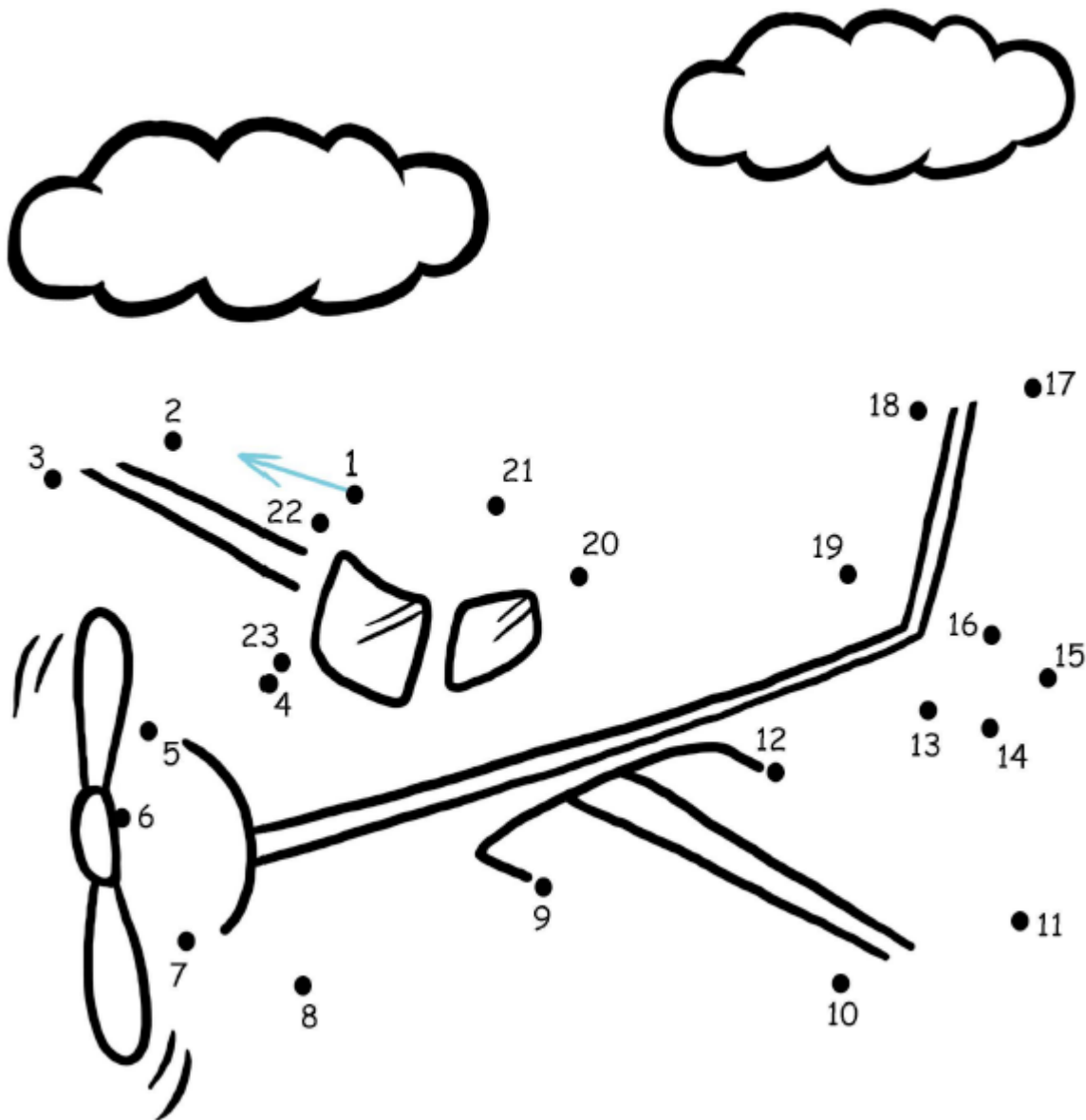


Име и презиме: \_\_\_\_\_

Датум: \_\_\_\_\_

Поврзи ги точките и обој!



Име и презиме: \_\_\_\_\_

Датум: \_\_\_\_\_

Пресметај и обој!



сина



жолта



црвена



зелена



виолетова




светло сина

Име и презиме: \_\_\_\_\_

Датум: \_\_\_\_\_

Изброј по колку има од секој вид и запиши на линиите.




Име и презиме: \_\_\_\_\_

Датум: \_\_\_\_\_

1. Колку прозорчиња има авионот?  
\_\_\_\_\_ Обој ја сликата.



2. Нацртај 3 прозорчиња на авионот.  
Обој ја сликата.



3. Колку зрна грашок гледаш? \_\_\_ Обој ја сликата.




4. Нацртај 2 зрна грашок.  
Обој ја сликата.



5. Колку листови на цвеќето можеш да изброиш? \_\_\_\_\_ Обој ја сликата.



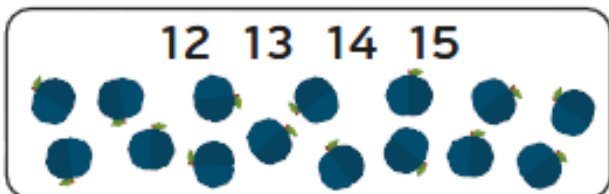

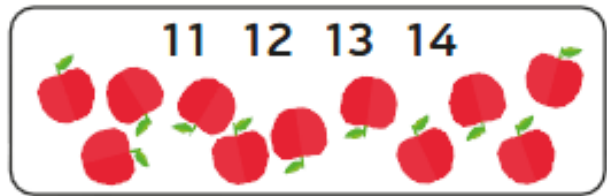
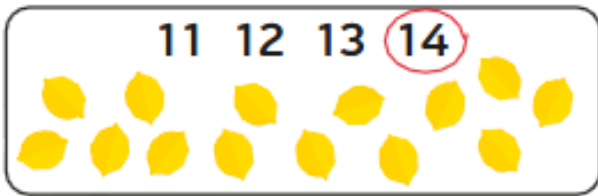
6. Нацртај 6 листови на цвеќето. Обој ја сликата.



Име и презиме: \_\_\_\_\_

Датум: \_\_\_\_\_

Изброј и заокружи, како во примерот



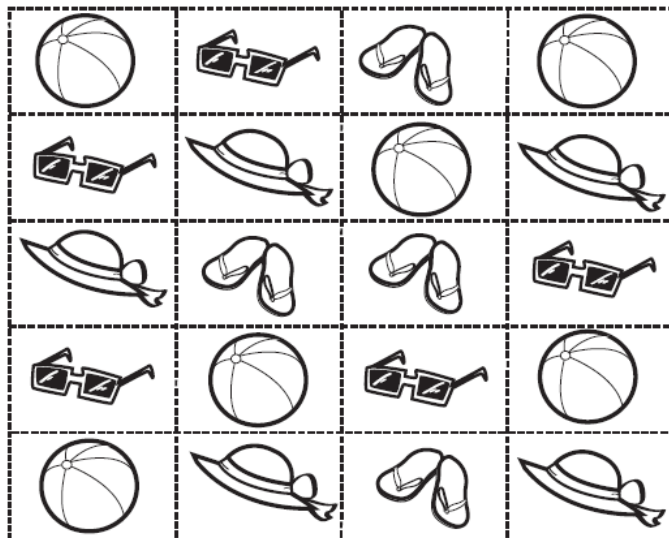
Име и презиме: \_\_\_\_\_

Датум: \_\_\_\_\_

Помогни му на Тони да ги организира предметите што ги носеше на плажа.

За секој предмет обој онолку полиња колку што има од тој предмет.






Во сините правоаголници под секоја колона запиши колку вкупно има од секој предмет.




Име и презиме: \_\_\_\_\_

Датум: \_\_\_\_\_


1. Обој ја сликата што одговара на дадениот реден број.

	<b>3.</b>
	<b>4.</b>
	<b>6.</b>
	<b>5.</b>
	<b>1.</b>

2. Кој е на кое место во редицата? Заокружи.



 3. **5.** 9.

а)  4. 7. 9.

б)  2. 7. 6.

в)  1. 4. 8.


г)  1. 3. 7.

д)  7. 8. 10.


Име и презиме: \_\_\_\_\_

Датум: \_\_\_\_\_



Колку инсекти гледаш на сликите? Означи ја со ✓ групата во која има повеќе инсекти.




или



или



или



Име и презиме: \_\_\_\_\_

Датум: \_\_\_\_\_

1. Одгатни и обој го точниот број. Кој број сум јас?

- Јас сум двоцифрен број.
- Јас сум 40 заокружен на најблиската десетка.
- Цифрата на моите десетки е помала од цифрата на единици.
- Цифрата на моите единици е 8.

26

48

38

13

31

2. Одгатни и пречкртај го точниот број. Кој број сум јас?

- Јас сум двоцифрен број.
- Јас сум 20 заокружен на најблиската десетка.
- Цифрата на моите десетки е еднаква со цифрата на единици.

16

48

37

44

22