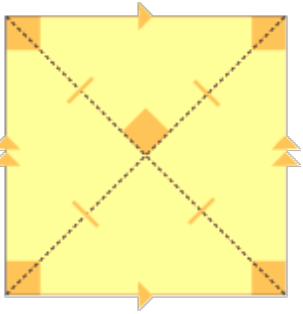
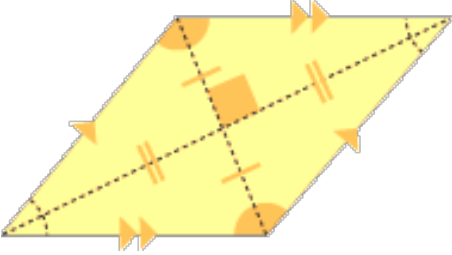
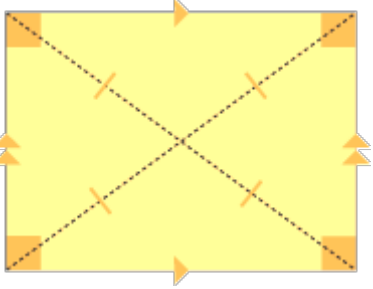
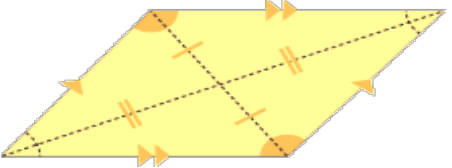
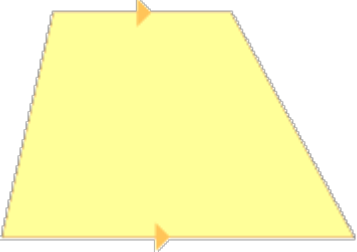
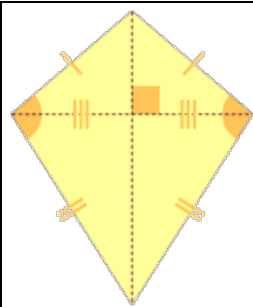


# Наставен лист

четириаголник	Својства (пополни)
	<p>четириаголникот е:            аглите се:            страните се:            спротивните страни се:            колку пара паралелни страни се паралелни?            дијагоналите по должина се:            Аголот на пресек на дијагоналите е:</p>
	<p>четириаголникот е:            аглите се:            страните се:            спротивните страни се:            колку пара паралелни страни се паралелни?            дијагоналите по должина се:            Аголот на пресек на дијагоналите е:</p>
	<p>четириаголникот е:            аглите се:            страните се:            спротивните страни се:            колку пара паралелни страни се паралелни?            дијагоналите по должина се:            дали дијагоналите се заемно нормални?</p>
	<p>четириаголникот е:            аглите се:            страните се:            спротивните страни се:            колку пара паралелни страни се паралелни?            дијагоналите по должина се:            дали дијагоналите се заемно нормални?</p>
	<p>четириаголникот е:            аглите се:            страните се:            колку пара паралелни страни се паралелни?            дијагоналите по должина се:            дали дијагоналите се заемно нормални?</p>



четриаголникот е:

аглите се:

страните се:

кои страни се еднакви:

дијагоналите по должина се:

дали дијагоналите се заемно нормални?

