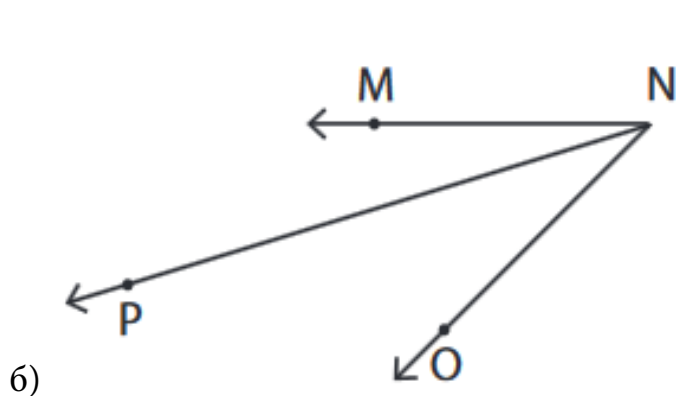
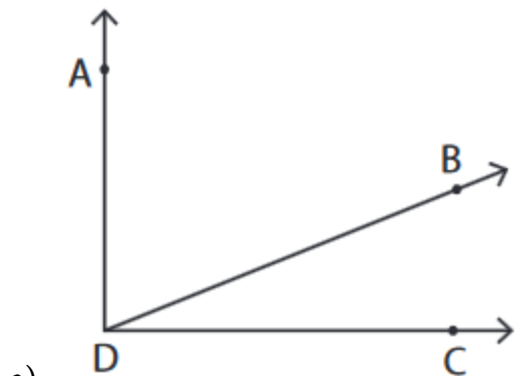
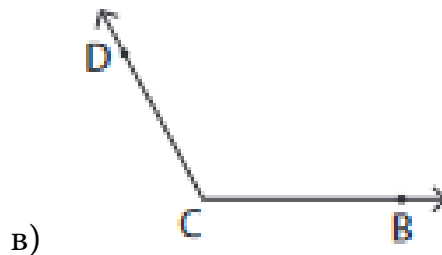
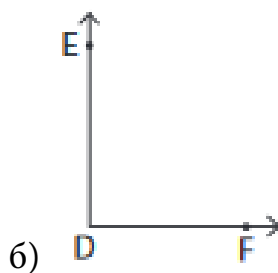
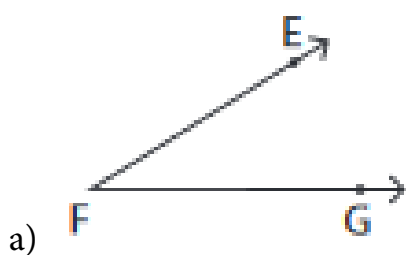


Наставен лист

1. Запиши ги сите агли на цртежите.



2. Одреди од кој вид е аголот и запиши го темето и краците.



3. Нацртај

а) рамен агол

б) полн агол

4. Нацртај агол со дадената големина.

а) $\angle ABC = 40^\circ$

б) $\angle MNP = 54^\circ$

в) $\angle QRS = 125^\circ$

г) $\angle KLJ = 225^\circ$