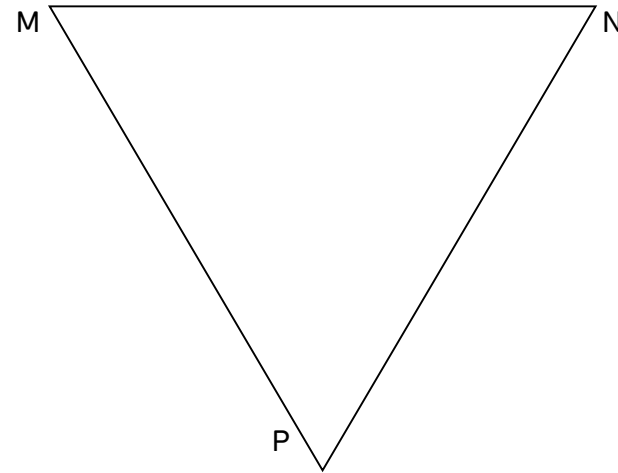
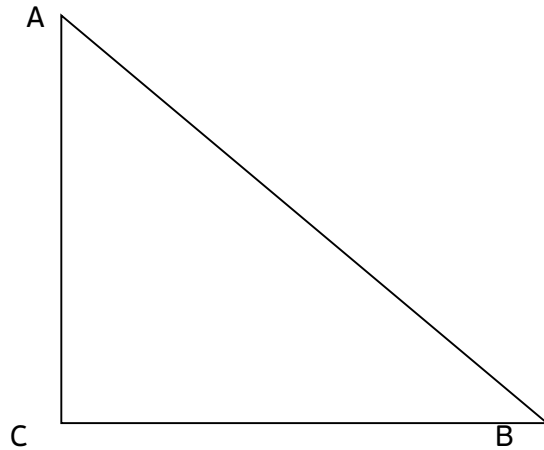


Наставен лист 1

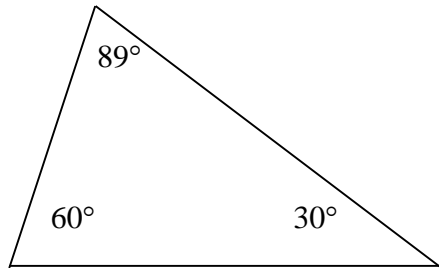
Работна задача 1: Измери ги аглие на триаголниците на цртежот и пополни ја табелата. Што забележуваш?



Триаголник	Измерени агли	Збир на агли

**Работна задача 2:** Провери кои од означените тројки големини на агли се точни агли, а кои не се како агли во триаголник.

А)



Б)

