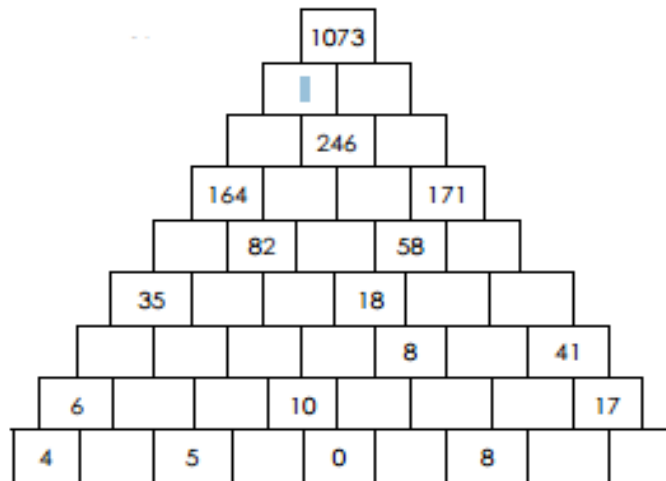
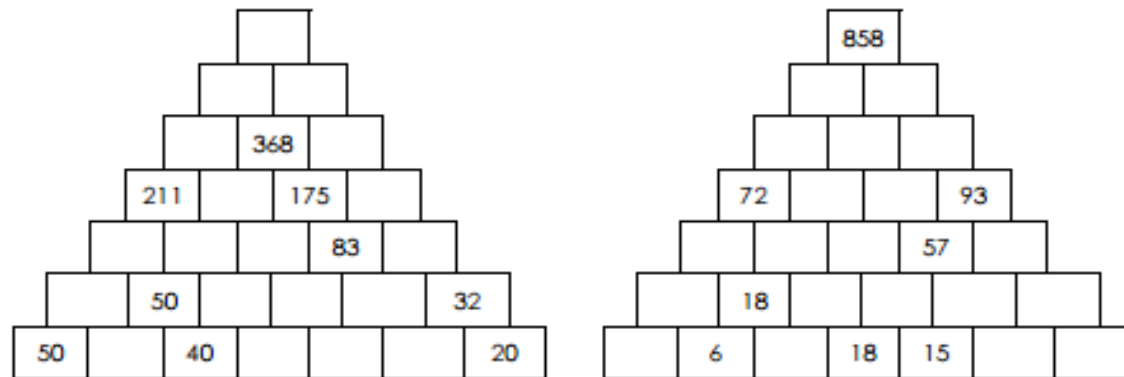
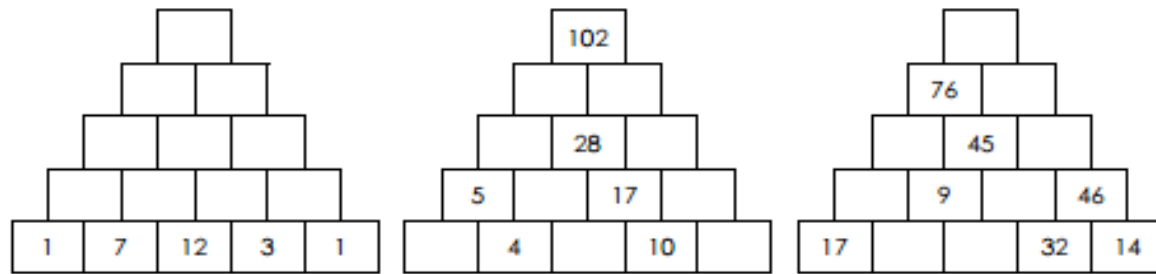


Каролов дијаграм

3	5	6	9	10	18	19	23	27	29
30	32	33	34	36	45	47	50	59	61

	Парен број	Непарен број
Содржател на 3		
Не е содржател на 3		





Бројни пирамиди



Задача за учениците кои завршиле:

Најди осум различни парови вредности за x и y . Колку вкупно решенија постојат? Дали можеш да ја најдеш врската меѓу x и y ?

