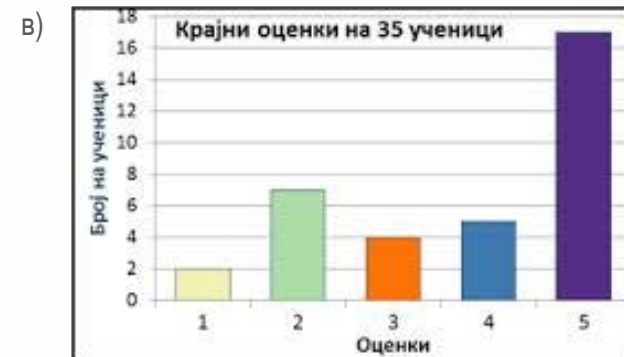
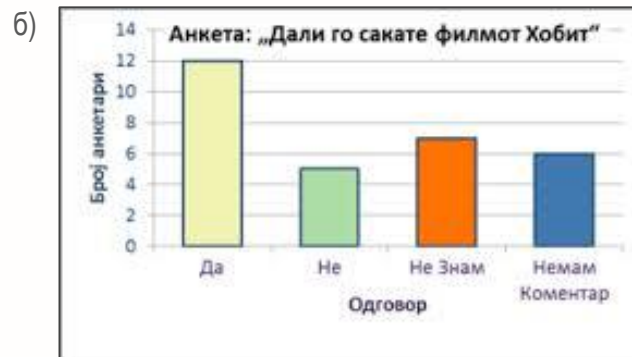
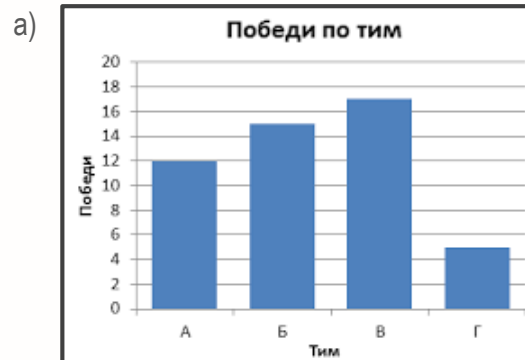


Столбест дијаграм

1. На следниве дијаграми прочитај ги податоците и одговори ги прашањата:



- Колку анкестирани лица сакаат да го следат филмот „Хобит“? _____
- Колку вкупно тимови учествувале и кој тим победил? _____
- Колку ученици имаат оценка 3? _____
- Колку победи има тимот Б? _____
- Колку вкупно лица биле анкестирани? _____
- Колку ученици имаат крајна оценка 5? _____
- Колку победи има тимот А и на кое место е? _____

Мислење на наставник: _____