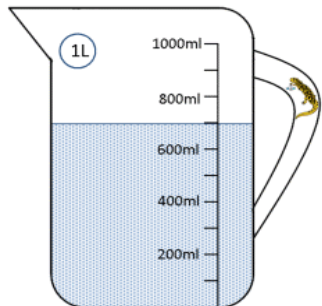


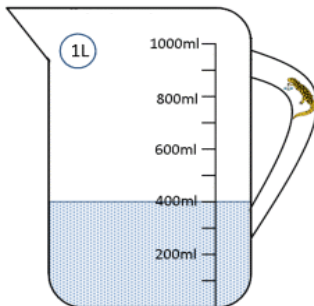
Датум: _____

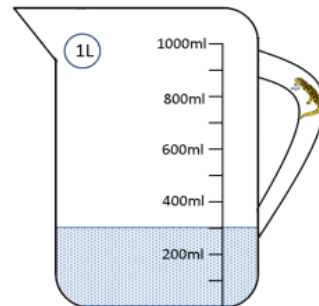
Име и презиме: _____

Мерни единици за зафатнина – литар и милилитар

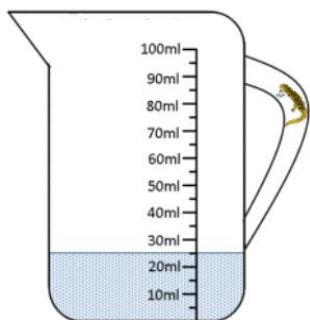
1. Прочитај и запиши колку течност има во секој од садите. Потоа под секоја вредност пресметај колку течност ќе има во садите ако се дополнително уште 250 ml течност.

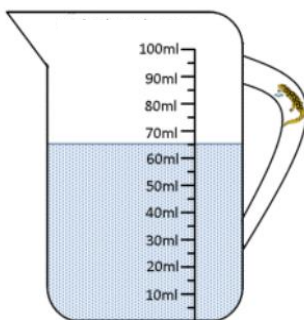


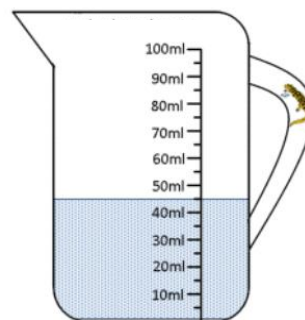




2. Прочитај и запиши колку течност има во секој од садите. Потоа под секоја вредност пресметај колку течност ќе остане во садите ако се истури по 20 ml течност. Со линија означи го нивото на останатата течност во секој бокал.







3. Претвори ги мерките за течност според барањето.

$6 \text{ l} = \underline{\quad} \text{ ml}$

$8 \text{ l} = \underline{\quad} \text{ ml}$

$7 \text{ l} = \underline{\quad} \text{ ml}$

$80 \text{ l} = \underline{\quad} \text{ ml}$

$30 \text{ l} = \underline{\quad} \text{ ml}$

$10 \text{ l} = \underline{\quad} \text{ ml}$

$35 \text{ l} = \underline{\quad} \text{ l } \underline{\quad} \text{ ml} = \underline{\quad} \text{ ml}$

$78 \text{ l} = \underline{\quad} \text{ l } \underline{\quad} \text{ ml} = \underline{\quad} \text{ ml}$

$9,8 \text{ l} = \underline{\quad} \text{ l } \underline{\quad} \text{ ml} = \underline{\quad} \text{ ml}$

$7,08 \text{ l} = \underline{\quad} \text{ l } \underline{\quad} \text{ ml} = \underline{\quad} \text{ ml}$

$2000 \text{ ml} = \underline{\quad} \text{ l}$

$7000 \text{ ml} = \underline{\quad} \text{ l}$

$11000 \text{ ml} = \underline{\quad} \text{ l}$

$5300 \text{ ml} = \underline{\quad} \text{ l } \underline{\quad} \text{ ml} = \underline{\quad} \text{ l}$

$3080 \text{ ml} = \underline{\quad} \text{ l } \underline{\quad} \text{ ml} = \underline{\quad} \text{ l}$

$4320 \text{ ml} = \underline{\quad} \text{ l } \underline{\quad} \text{ ml} = \underline{\quad} \text{ l}$

$2440 \text{ ml} = \underline{\quad} \text{ l } \underline{\quad} \text{ ml} = \underline{\quad} \text{ l}$