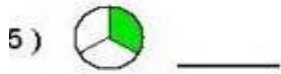
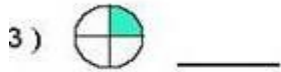


## ДРОПКИ

- писмена проверка на знаењата

1. Запиши го со дробка обоениот дел!



2. Обој го делот што е претставен со дробка!



10/

3. Прочитај ги дробките и запиши со зборови:

$\frac{1}{8}$  \_\_\_\_\_  $\frac{3}{4}$  \_\_\_\_\_  $\frac{2}{5}$  \_\_\_\_\_


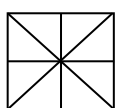
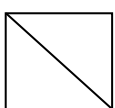
3/

4. Пополни ја табелата точно.

	дробката запишана со броеви	број на еднакви делови во целото
половина	$\frac{1}{2}$	2
осмина		
четвртина		
две третини		
четири десетини		

4/

5. Запиши ги еднаквите дробки. Обои ги деловите од фигурите според еднаквите дробки.



$\frac{1}{2}$

4


$\frac{2}{6}$

$\frac{1}{3}$

4/

6.

Заокружи дел од сликата за да покажува  $\frac{1}{2}$ .



Заокружи за да добиеш дробка  $\frac{2}{3}$



2/

7. Пресметај и запиши:

- |                              |                              |
|------------------------------|------------------------------|
| 1) $\frac{1}{2}$ 8 = _____   | 2) $\frac{1}{2}$ 10 = _____  |
| 3) $\frac{1}{2}$ 14 = _____  | 4) $\frac{1}{2}$ 24 = _____  |
| 5) $\frac{1}{2}$ 4 = _____   | 6) $\frac{1}{2}$ 16 = _____  |
| 7) $\frac{1}{4}$ 8 = _____   | 8) $\frac{1}{4}$ 12 = _____  |
| 9) $\frac{1}{4}$ 16 = _____  | 10) $\frac{1}{4}$ 20 = _____ |
| 11) $\frac{1}{3}$ 9 = _____  | 12) $\frac{1}{3}$ 12 = _____ |
| 13) $\frac{1}{3}$ 30 = _____ | 14) $\frac{1}{3}$ 15 = _____ |

7/

8. Во еден автобус се возеле 12 патника. Третина од патниците биле деца. Колку деца имало во автобусот?

Решение:

Одговор: \_\_\_\_\_

4/

9. Марко имал лента долга 40 см. Колку центиметри од лентата му останале на Марко ако четвртина од лентата ја дал на сестра му?

Решение:

Одговор: \_\_\_\_\_

6/

0 - 22 - Потруди се да научиш, никогаш не е доцна!  
 23 - 36 - Добро си научил/а, но можеш уште подобро!  
 37 - 40 - Ти знаеш за дробките! Продолжи и понатаму да учиш!

Можни поени	Освоени поени
40	

очекувани резултати	да	не	делумно
1. Запишува дробки			
2. Одредува дел од фигура претставен со дробка			
3. Чита дробки			
4. Разбира дека дробките се делови од едно цело и ги запишува			
5. Препознава еднаквост помеѓу дробките/ претставува со цртеж			
6. Заокружува половици, третини од даден број елементи			
7. Наоѓа половина, третина, четвртина од парни и непарни броеви			
8. Решава тескуални задачи			

Родител: \_\_\_\_\_

Наставник: \_\_\_\_\_