







Датум: _____

Име и презиме: _____

3Д ФОРМИ

- Работен лист -

1. Откриј ја формата и поврзи за да биде точно.

	квадар	2 рамни површини 1 закривена површина
	конус	Се тркала Нема темиња Нема страни
	топка	1 рамна површина 1 закривена површина 1 теме
	цилиндар	Сите страни се квадрати
	коцка	Сите страни се рамни
	пирамида	Сите страни се рамни Некои страни се триаголници

Одделенски наставник _____

Родител _____