










Датум: _____

Име и презиме: _____

Тема: Мерење и решавање проблеми
Наставна содржина: Мерки за маса



1. Процени ја тежината на предметите и заокружи го точниот одговор.

 а) повеќе од 15 kg б) помалку од 15 kg	 а) повеќе од 3 kg б) помалку од 3 kg	 а) повеќе од 100 kg б) помалку од 100 kg
 а) повеќе од 1 kg б) помалку од 1 kg	 а) повеќе од 2 kg б) помалку од 2 kg	 а) повеќе од 30 kg б) помалку од 30 kg
 а) повеќе од 1 kg б) помалку од 1 kg	 а) повеќе од 5 kg б) помалку од 5 kg	 а) повеќе од 20 kg б) помалку од 20 kg

Очекувани резултати:

- Проценува маса на предмети да не делумно
- Споредува маса на предмети да не делумно

Одделенски наставник _____

Родител _____