
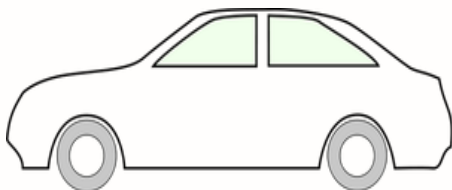
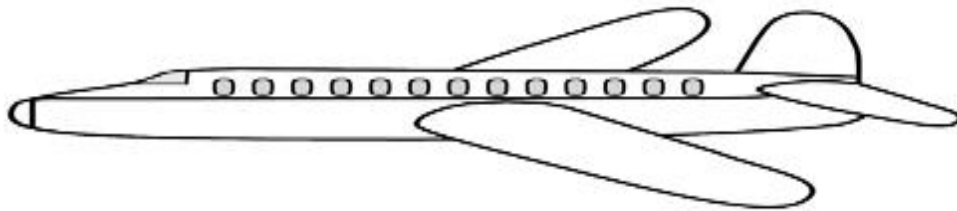

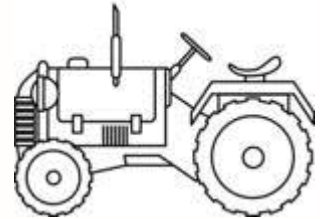



Датум: _____

Име и презиме: _____

Тема: **Мерење и решавање проблеми**
Наставна содржина: **Мерки за должина**

1. Исечи го линијарот и измери ја должината на сообраќајните средства.



Очекувани резултати:

- Мери должини на предмети

да

не

делумно

- Користи мерка за должина – метар

да

не

делумно

Одделенски наставник _____

Родител _____