







Датум: _____

Име и презиме: _____


Тема: Мерење и решавање проблеми

Наставна содржина: Мерки за должина

1. Процени ја должината на предметите и заокружи го точниот одговор.

 <p>а) повеќе од 1 метар б) помалку од 1 метар</p>	 <p>а) повеќе од 3 метри б) помалку од 2 метри</p>	 <p>а) повеќе од 10 метри б) помалку од 10 метри</p>
 <p>а) повеќе од 1 метар б) помалку од 1 метар</p>	 <p>а) повеќе од 1 метар б) помалку од 1 метар</p>	 <p>а) повеќе од 3 метри б) помалку од 1 метар</p>

Процени ја, а потоа со метро измери ја должината на рибата.



Проценета должина _____ метри.

Измерена должина _____ метри.

Очекувани резултати:

- Проценува должина на предмети

да

не

делумно

- Споредува и мери должина на предмети

да

не

делумно

Одделенски наставник _____

Родител _____