



Датум: _____


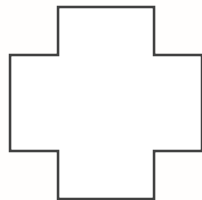

Име и презиме: _____

ДРОПКИ

1. Обој половина од секоја форма и запиши ја со дробка.



2. Подели ја секоја форма на четири еднакви дела, обој четвртина и запиши ја со дробка.



3. Подели го правоаголникот на 4 еднакви дела, на два различни начини. Потоа обој по $\frac{3}{4}$ од секој правоаголник.




4. Нацртај форми и подели ги според барањата.

а) половина


б) четвртина

5. Обој четвртина од секоја група животни.

а)



б)



6. Пресметај и запиши.

а) $\frac{1}{2}$ од бројот 4 е _____

б) $\frac{1}{4}$ од бројот 16 е _____

в) $\frac{1}{2}$ од бројот 14 е _____

г) $\frac{1}{4}$ од бројот 20 е _____

д) $\frac{1}{2}$ од бројот 6 е _____

ѓ) $\frac{3}{4}$ од бројот 12 е _____

Очекувани резултати:

- | | | | |
|---|----|----|---------|
| - Препознава и запишува $\frac{1}{2}$, $\frac{1}{4}$ и $\frac{3}{4}$ | да | не | делумно |
| - Препознава дека $\frac{2}{2}$ и $\frac{4}{4}$ прават едно цело | да | не | делумно |
| - Наоѓа половици и четвртини од мала група предмети или броеви | да | не | делумно |

Коментар од наставникот _____

Наставник _____ Родител _____