

Датум: _____


Име и презиме: _____

Множењето како собирање на еднакви групи

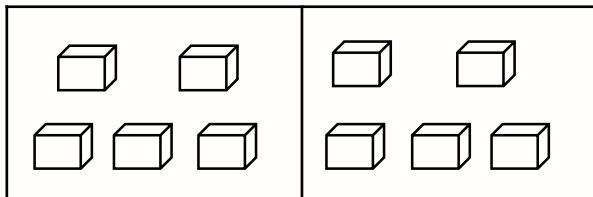
1. Број и пополни ги празните полиња:



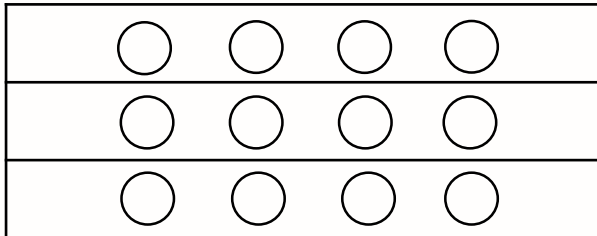
$$\underline{\quad} + \underline{\quad} + \underline{\quad} = \underline{\quad}$$



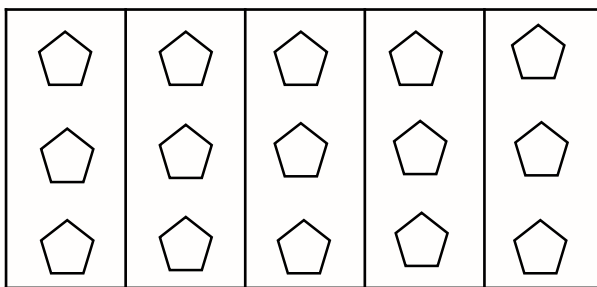
$$\underline{\quad} + \underline{\quad} + \underline{\quad} + \underline{\quad} = \underline{\quad}$$



$$\underline{\quad} + \underline{\quad} = \underline{\quad}$$



$$\underline{\quad} + \underline{\quad} + \underline{\quad} = \underline{\quad}$$



$$\underline{\quad} + \underline{\quad} + \underline{\quad} + \underline{\quad} + \underline{\quad} = \underline{\quad}$$

Очекувани резултати:

Го разбира множењето како опишување на низа од броеви	Да	не	делумно
Избира и користи соодветни мисловни стратегии за пресметување и ја објаснува постапката како дошол до одговорот	да	не	делумно

Наставник _____

Родител _____